

7201-01 Lefel 1 Diploma mewn Astudiaethau Gwasanaethau Adeiladu

Llawlyfr Tasgau'r Ymgeisydd



www.cityandguilds.com
Ebrill 2021
Fersiwn 1.0

Manylion yr Ymgeisydd	3
Datganiad yr ymgeisydd	4
1 Trosolwg asesu unedau	5
1.1 Cofnod cwblhau tasg	5
2 Tasgau ymarferol	8
Uned 102 Arferion Gweithio Diogel Sylfaenol	9
Uned 104 Paratoi Safle ar gyfer Gweithio yn y Diwydiant Adeiladu	11
Uned 105 Terfyniadau a Gwifro Gosodiadau Trydan	20
Uned 108 Draenio Uwch Daeear	27
Uned 109 Peipiau Copr	35
Uned 110 Peipiau Pwysedd Plastig	43
Uned 112 Gosod, Trwsio a Chynnal Systemau Plymio	47
3 Tasgau gwybodaeth	50
Uned 101 Strwythur y Diwydiant Adeiladu	51
Uned 102 Arferion Gweithio Diogel Sylfaenol	60
Uned 103 Mesurau Amgylcheddol a Chynaliadwyedd mewn Anheddau Domestig	69
Uned 104 Paratoi Safle ar gyfer Gweithio yn y Diwydiant Adeiladu	76
Uned 105 Terfyniadau a Gwifro Gosodiadau Trydan	81
Uned 108 Draenio Uwch Daeear	90
Uned 109 Peipiau Copr	94
Uned 110 Peipiau pwysedd plastig	100
Uned 112 Gosod, Trwsio a Chynnal Systemau Plymio	103
4 Atodiadau	113
Atodiad 1 Ffurflen adborth uned a blaengynllunio	114

Manylion yr ymgeisydd



Dylid rhoi i ymgeiswyr gopi o'r Llawlyfr Tasgau Ymgeisydd wrth ddechrau'r rhaglen.

Mae'r manylion canlynol i'w cwblhau cyn cymryd unrhyw un o'r aseiniadau.

Mae Llawlyfr Tasgau'r Ymgeisydd yn gofnod personol o gyflawniad yr ymgeisydd yn ei aseiniadau. Dylid ei gadw mewn cyflwr da ac mewn lle diogel gan yr Asesydd.

Manylion yr ymgeisydd

Cyfenw: Enw(au) cyntaf:

Cyfeiriad:

Sir Cod Post:

Manylion y ganolfan

Enw: Rhif y Ganolfan:

Cyfeiriad:

Dyddiad cofrestru'r Ganolfan	<input type="text"/>	Rhif ymrestru'r Ganolfan	<input type="text"/>
Rhif cofrestru City & Guilds	<input type="text"/>	Dyddiad cofrestru C&G	<input type="text"/>

Dyddiad Cwblhau

Enw'r asesydd	Llofnod yr asesydd	Dyddiad
<input type="text"/>	<input type="text"/>	<input type="text"/>
Enw Sicrhau Ansawdd Mewnol	Llofnod Sicrhau Ansawdd Mewnol	Dyddiad
<input type="text"/>	<input type="text"/>	<input type="text"/>
Ymgynghorydd Cymhwyster/ enw Gwiriwr Allanol (os yw'n berthnasol)	Ymgynghorydd Cymhwyster / Llofnod y Gwiriwr Allanol	Dyddiad
<input type="text"/>	<input type="text"/>	<input type="text"/>

Datganiad yr ymgeisydd



Rhaid i'r ddogfen hon gael ei chwblhau gan yr ymgeisydd a'r tiwtor fel rhan o'r broses ymsefydlu cymhwyster.

Rydych wedi cofrestru ar y Diploma Lefel 1 mewn Astudiaethau Plymio (7202-01). Mae hwn yn gymhwyster sy'n profi sgiliau ymarferol a sgiliau seiliedig ar wybodaeth mewn amgylchedd ystafell ddosbarth. Er mwyn bod yn gymwys fel plymer bydd angen i chi gwblhau'r cymwysterau canlynol

6189 Lefel 2 & 3 NVQ mewn Plymio a Gwresogi

Gallaf gadarnhau, fel rhan o'm cyfnod ymsefydlu, fod y datganiad uchod wedi'i esbonio a deallaf na fydd cwblhau cymhwyster Diploma Lefel 1 City and Guilds mewn Astudiaethau Plymio (7202-01) yn fy ngwneud yn blymer cwbl gymwys ond bydd yn rhoi sgiliau sylfaen i mi i helpu i weithio tuag at gymwysterau cydnabyddedig.

Ymgeisydd _____

Dyddiad _____

Asesydd/tiwtor: _____

Dyddiad _____

1 Trosolwg asesu unedau

1.1 Cofnod cwblhau tasg

I'w gwblhau gan yr Asesydd:

Am bob tasg, y pwyntiau am bob gradd yw
 Llwyddo = 1, Teilyngdod = 2, a Rhagoriaeth = 3
 phwynt.

Siart trosi		Gradd gyffredinol
Cyfartaledd		
1	1.5	Llwyddo
1.6	2.5	Teilyngdod
2.6	3	Rhagoriaeth

Uned 101 Strwythur y Diwydiant Adeiladu

Tasg	Gradd y dasg
CI 1 Tasg ysgrifenedig - Asesu gwybodaeth	LL / X

Rhaid llwyddo ym mhob tasg er mwyn cyflawni'r uned.

Llofnod yr asesydd a'r dyddiad	Gellir cyflawni'r uned hon ar lefel Llwyddo/Methu yn unig
	Gradd gyffredinol

Uned 102 Arferion Gweithio Diogel Sylfaenol

Tasg	Gradd y dasg
SWP 1 Tasg ymarferol - Trafod â Llaw	LL / X
SWP 2 Tasg ymarferol - Cyfarpar mynediad	LL / X
SWP 3 Tasg ysgrifenedig - Asesu gwybodaeth	LL / X

Rhaid llwyddo ym mhob tasg er mwyn cyflawni'r uned.

Llofnod yr asesydd a'r dyddiad	Gellir cyflawni'r uned hon ar lefel Llwyddo/Methu yn unig
	Gradd gyffredinol

Uned 103 Mesurau Amgylcheddol a Chynaliadwyedd mewn Anheddau domestig

Tasg	Gradd y dasg
ES 1 Tasg ysgrifenedig - Asesu gwybodaeth	LL / X

Rhaid llwyddo ym mhob tasg er mwyn cyflawni'r uned.

Llofnod yr asesydd a'r dyddiad	Gellir cyflawni'r uned hon ar lefel Llwyddo/Methu yn unig
	Gradd gyffredinol

Uned 104 Paratoi Safle ar gyfer Gweithio yn y Diwydiant Adeiladu

Tasg	Gradd y dasg †	Pwyntiau (tasgau graddedig)
SP 1 Tasg ymarfero+ Adnabod offer	LL / X	
SP 2 Tasg ymarfero+ Gweithredu drilio, torri a gosod	LL / T / RH / X	
SP 3 Tasg ysgrifenedig - Asesu gwybodaeth	LL / X	

Rhaid llwyddo ym mhob tasg er mwyn cyflawni'r uned.

Llofnod yr asesydd a'r dyddiad	Bydd y radd gyffredinol yr un fath â'r dasg raddedig unigol yn yr uned hon.	
	Gradd gyffredinol	

Uned 105 Terfyniadau a Gwifro Gosodiadau Trydanol

Tasg	Gradd y dasg †	Pwyntiau (tasgau graddedig)
EI 1 Tasg ymarferol - Cylched goleuo un-ffordd	LL / T / RH / X	
EI 2 Tasg ymarferol - Cylched allfa soced reiddiol	LL / T / RH / X	
EI 3 Tasg ysgrifenedig - Asesu gwybodaeth	LL / X	
EI 4 Tasg ysgrifenedig - Diagramau gwifro a chylched	LL / X	

Rhaid llwyddo ym mhob tasg er mwyn cyflawni'r uned.

Llofnod yr asesydd a'r dyddiad		Cyfanswm
	Ar gyfer tasgau graddedig, rhannwch gyfanswm y pwyntiau gan gyfanswm nifer y tasgau graddedig	÷ 2
	Cyfartaledd =	
	Gradd gyffredinol (gweler y siart trosi)	

Uned 108 Draenio Uwch Daear

Tasg	Gradd y dasg †	Pwyntiau (tasgau graddedig)
AGD 1 Tasg ymarfero+ Cafnau dŵr glaw	LL / T / RH / X	
AGD 2 Tasg ymarfero+ Ffrâm peipen wastraff	LL / T / RH / X	
AGD 3 Tasg ymarfero+ Tasg adnabod	LL / X	
AGD 4 Tasg ymarfero+ Gosodiad peipen wastraff	LL / T / RH / X	
AGD 5 Tasg ysgrifenedig - Asesu gwybodaeth	LL / X	

Rhaid llwyddo ym mhob tasg er mwyn cyflawni'r uned.

Llofnod yr asesydd a'r dyddiad		Cyfanswm
	Ar gyfer tasgau graddedig, rhannwch gyfanswm y pwyntiau gan gyfanswm nifer y tasgau graddedig	÷ 3
	Cyfartaledd =	
	Gradd gyffredinol (gweler y siart trosi)	

Uned 109 Peipiau Copr

Tasg	Gradd y dasg †	Pwyntiau (tasgau graddedig)
CP 1 Tasg ymarfero+ Ffrâm gopr 1	LL / T / RH / X	
CP 2 Tasg ymarfero+ Ffrâm gopr 2	LL / T / RH / X	
CP 3 Tasg ymarfero+ Tasg adnabod	LL / X	
CP 4 Tasg ymarfero+ Gosod peipen gopr	LL / T / RH / X	
CP 5 Tasg ysgrifenedig - Asesu gwybodaeth	LL / X	
<p>Rhaid llwyddo ym mhob tasg er mwyn cyflawni'r uned.</p> <p>Llofnod yr asesydd a'r dyddiad</p>		<p>Cyfanswm</p> <p>Ar gyfer tasgau graddedig, rhannwch gyfanswm y pwyntiau gan gyfanswm nifer y tasgau graddedig</p> <p>Cyfartaledd =</p> <p>Gradd gyffredinol (gweler y siart trosi)</p>
		÷ 3

Uned 110 Peipen Bwysedd Blastig

Tasg	Gradd y dasg †	Pwyntiau (tasgau graddedig)
P 1 Tasg ymarfero+ Ffrâm peipiau pwysedd plastig	LL / T / RH / X	
P 2 Tasg ymarfero+ Gosod peipen bwysedd blastig	LL / T / RH / X	
P 3 Tasg ysgrifenedig - Asesu gwybodaeth	LL / X	
<p>Rhaid llwyddo ym mhob tasg er mwyn cyflawni'r uned.</p> <p>Llofnod yr asesydd a'r dyddiad</p>		<p>Cyfanswm</p> <p>Ar gyfer tasgau graddedig, rhannwch gyfanswm y pwyntiau gan gyfanswm nifer y tasgau graddedig</p> <p>Cyfartaledd =</p> <p>Gradd gyffredinol (gweler y siart trosi)</p>
		÷ 2

Uned 112 Gosod, trwsio a chynnal systemau plymio

Tasg	Gradd y dasg †	Pwyntiau (tasgau graddedig)
IRM 1 Tasg ymarfero+ - Lleoli ac ynysu cyflenwadau dŵr poeth ac oer	LL / X	
IRM 2 Tasg ymarfero+ - Trwsio a chynnal tapiau a falfiau	LL / T / RH / X	
IRM 3 Tasg ymarfero+ - Trwsio a chynnal falfiau a weithredir gan fflôt	LL / T / RH / X	
IRM 4 Tasg ysgrifenedig - Asesu gwybodaeth	LL / X	
<p>Rhaid llwyddo ym mhob tasg er mwyn cyflawni'r uned.</p> <p>Llofnod yr asesydd a'r dyddiad</p>		<p>Cyfanswm</p> <p>Ar gyfer tasgau graddedig, rhannwch gyfanswm y pwyntiau gan gyfanswm nifer y tasgau graddedig</p> <p>Cyfartaledd =</p> <p>Gradd gyffredinol (gweler y siart trosi)</p>
		÷ 2

2 Tasgau ymarferol



Uned 102 Arferion Gweithio Diogel Sylfaenol

Dalen Tasg Asesu

TASG SWP 1 – Trafod â Llaw

Amser disgwylidig	2 awr
Cyfarwyddiadau'r dasg	Mae angen i chi godi a symud tair eitem yn ôl cyfarwyddiadau'r asesydd. Ymhlith y rhain mae'r canlynol: <ul style="list-style-type: none">• Un wedi'i chodi a'i symud ar eich pen eich hun.• Un wedi'i chodi a'i symud gyda chymorth rhywun arall.• Un wedi'i chodi a'i symud gan ddefnyddio tryc sach neu offer mecanyddol arall.
Diagramau	Amh

Cynllun cyn-asesu'r ymgeisydd			
Rwy'n ymwybodol o ofynion, meini prawf a dyraniad amser yr asesiad, ac mae gen i'r holl offer a chyfarpar perthnasol i gyflawni'r dasg.			
Llofnod yr Ymgeisydd		Dyddiad	

Mae'r ymgeisydd wedi		Llwyddo
1	trafod eitemau trwm a swmpus	
	<ul style="list-style-type: none">• yn unigol	<input type="checkbox"/>
	<ul style="list-style-type: none">• fel tîm	<input type="checkbox"/>
	<ul style="list-style-type: none">• gan ddefnyddio offer codi mecanyddol	<input type="checkbox"/>

I ddyfarnu **llwyddo**: rhaid bod pob gweithgaredd yn y rhestr wirio wedi'i gyflawni'n llwyddiannus

Mae'r dasg wedi'i chyflawni'n llwyddiannus yn ôl y safonau a nodwyd			
Person	Printiwch yr enw	Llofnod	Dyddiad
Ymgeisydd			
Asesydd			
Sicrhau ansawdd mewnol (os yw'n ofynnol)			

Uned 102 Arferion Gweithio Diogel Sylfaenol

Dalen Tasg Asesu

TASG SWP 2 – Cyfarpar Mynediad

Amser disgwyliedig	1 awr
Cyfarwyddiadau'r dasg	<p>I gwblhau'r dasg hon rhaid i chi gynnal gwiriadau diogelwch ar y cyfarpar mynediad canlynol a'u defnyddio:</p> <ul style="list-style-type: none"> • ysgolion • grisiau camu <p>Rhaid i chi gynnal archwiliad gweledol o'r ddwy eitem hyn o gyfarpar mynediad.</p> <p>Rhaid i chi wedyn godi a defnyddio'n foddhaol bob eitem o gyfarpar mynediad yn ôl cyfarwyddyd yr asesydd.</p> <p>Gallwch gael helpu i symud a chodi'r ysgol.</p>
Diagramau	Amh

Cynllun cyn-asesu'r ymgeisydd			
Rwy'n ymwybodol o ofynion asesu, meini prawf a dyraniad amser			
Mae gen i'r holl offer a chyfarpar perthnasol i gyflawni'r dasg			
Llofnod yr Ymgeisydd		Dyddiad	

Mae'r ymgeisydd wedi		Llwyddo
1	cynnal gwiriadau diogelwch ac wedi defnyddio'r cyfarpar mynediad canlynol:	
	<ul style="list-style-type: none"> • grisiau camu 	<input type="checkbox"/>
	<ul style="list-style-type: none"> • ysgolion 	<input type="checkbox"/>

I ddyfarnu **llwyddo**: rhaid bod pob gweithgaredd yn y rhestr wirio wedi'i gyflawni'n llwyddiannus

Mae'r dasg wedi'i chyflawni'n llwyddiannus yn ôl y safonau a nodwyd			
Person	Printiwch yr enw	Llofnod	Dyddiad
Ymgeisydd			
Asesydd			
Sicrhau ansawdd mewnol (os yw'n ofynnol)			

Uned 104 Paratoi Safle ar gyfer Gweithio yn y Diwydiant Adeiladu

Dalen Tasg Asesu

TASG SP 1 – Adnabod offer

Amser disgwylledig	Amh
Cyfarwyddiadau'r dasg	<p>i gwblhau'r dasg hon, gan ddefnyddio'r ffurflen a ddarperir, rhaid i chi adnabod chwe offeryn llaw cyffredin, nodi'r defnydd sy'n cael ei wneud ohonyn nhw, eu gofynion cynnal a chadw a beiau cyffredin sydd i'w cael arnyn nhw.</p> <p>adnabod pedwar offeryn pŵer a nodi'r defnydd ohonyn nhw.</p> <p>nodi tri bai sydd i'w cael gydag offeryn pŵer.</p> <p>dewis offeryn pŵer 110 V neu 230 V a disgrifio'r drefn ar gyfer defnyddio'r offeryn yn ddiogel</p> <p>adnabod mathau o ebill dril, pennau a gosodiadau sgriw nodi'r rhesymau dros ddefnyddio sgriwiau mewn gwahanol sefyllfaoedd a disgrifio pa osodiadau i'w defnyddio ar wahanol arwynebau.</p>
Diagramau	Amh

Cynllun cyn-asesu'r ymgeisydd			
Rwy'n ymwybodol o ofynion asesu, meini prawf a dyraniad amser			
Mae gennyf yr holl offer a chyfarpar i gyflawni'r dasg			
Llofnod yr Ymgeisydd		Dyddiad	

Mae'r ymgeisydd wedi			Llwyddo
1	Cwblhau'r llyfr gwaith		<input type="checkbox"/>

I ddyfarnu **llwyddo**: rhaid bod pob gweithgaredd yn y rhestr wirio wedi'i gyflawni'n llwyddiannus.

Mae'r dasg wedi'i chyflawni'n llwyddiannus yn ôl y safonau a nodwyd			
Person	Printiwch yr enw	Llofnod	Dyddiad
Ymgeisydd			
Asesydd			
Sicrhau ansawdd mewnol (os yw'n ofynnol)			





TASG SP 1 – Adnabod offer

- 1 O blith yr offer a ddarperir gan yr asesydd, dewiswch **chwe** offeryn llaw cyffredin a ddefnyddir wrth baratoi'r safle, cwblhewch y tabl isod gan eu henwi a nodi eu defnydd, eu gofynion cynnal a chadw a'u diffygion cyffredin.

Offeryn	Defnyddiau	Beiau cyffredin a gofynion cynnal yr offeryn

2 Dewiswch **un** o'r offer a gyflenwyd gan eich asesydd a nodwch y **drefn ddiogelu** wrth ei ddefnyddio.

3 Adnabyddwch yr offer pŵer canlynol, nodwch y defnydd ohonynt a'r gwiriadau diogelwch cynnal.

	Enw'r offeryn pŵer	Wedi'i ddefnyddio i	Gwiriadau diogelwch
			
			
			
			

4 Nodwch **dri** bai ar yr offeryn pŵer a gyflenwyd gan eich asesydd

Beiau
1
2
3

b


Dewiswch offeryn pŵer 110 V neu 230 V **a** disgrifiwch y drefn ar gyfer defnyddio'r offeryn yn ddiogel **a** rhestrwch beryglon cyffredin sy'n eich wynebu wrth ddefnyddio offer.

Gweithdrefn	
Peryglon	

5 Nodwch y math o ddeunyddiau y byddai pob ebill dril yn y darluniau'n cael eu defnyddio arnynt.



6 Enwch y **tri** math o ben sgriw sydd i'w gweld isod.



7 Cysylltwch y mathau canlynol o sgriwiau â'r darluniau isod.

- Sgriw pren wrthsodd
- Sgriw pren pen crwn
- Sgriw hunandapio
- Gosod plastrfwrdd



8 Cysylltwch y gosodiadau yn y lluniau isod â'r lleoliadau canlynol lle bydden nhw'n cael eu defnyddio.

- Plastrfwrdd
- Waliau bric
- Gosodiadau tu allan/allanol
- estyll llawr pren

			
Sgriw bres	Hoelen lorio	Gosodiadau ceudod	Plwg wal

Uned 104 Paratoi Safle ar gyfer Gweithio yn y Diwydiant Adeiladu Dalen Tasg Asesu

TASG SP 2–Gweithredu drilio, torri a gosod

Amser disgwylidig	Amh
Cyfarwyddiadau'r dasg	Gweithredwch ddrilio a gosod trwy ddewis gosodiadau ac arwynebau addas. Marciwch osodiadau yn ôl y fanyleb yn y diagram. Cysylltwch glipliau gosod sengl wrth wahanol fathau o arwynebau e.e. bric/blociau ac arwynebau pren neu blastrfwrdd.
Diagram	Ffigur 1. tudalen 21

Cynllun cyn-asesu'r ymgeisydd			
Rwy'n ymwybodol o ofynion asesu, meini prawf a dyraniad amser			
Mae gennyf yr holl offer a chyfarpar perthnasol i gyflawni'r dasg			
Llofnod yr Ymgeisydd		Dyddiad	

Mae'r ymgeisydd wedi		Llwyddo	Teilyng Rhagoriaeth dod	
1	dilyn gweithdrefnau diogelwch priodol wrth ddefnyddio offer llaw.	<input type="checkbox"/>		
2	dilyn gweithdrefnau diogelwch priodol wrth ddefnyddio offer pŵer.	<input type="checkbox"/>		
3	Arwyneb A			
	dewis, marcio a gosod yn gywir ar arwyneb o fewn +/- 4mm	<input type="checkbox"/> Ar ôl y trydydd cynnig	<input type="checkbox"/> Ar ôl yr ail gynnig	<input type="checkbox"/> Ar y cynnig cyntaf
4	Arwyneb B.....			
	dewis, marcio a gosod yn gywir ar arwyneb o fewn +/- 4mm	<input type="checkbox"/> Ar ôl y trydydd cynnig	<input type="checkbox"/> Ar ôl yr ail gynnig	<input type="checkbox"/> Ar y cynnig cyntaf


I ddyfarnu **llwyddo**: rhaid bod pob gweithgaredd yn y rhestr wirio wedi'i gyflawni'n llwyddiannus - I gyflawni graddau uwch rhaid i bob maen prawf llwyddo gael eu cyflawni a'r ddau faen prawf am y radd honno.

Mae'r dasg wedi'i chyflawni'n llwyddiannus yn ôl y safonau a nodwyd			
Person	Printiwch yr enw	Llofnod	Dyddiad
Ymgeisydd			
Asesydd			
Sicrhau ansawdd mewnol (os yw'n ofynnol)			

Uned 104 Paratoi Safle ar gyfer Gweithio yn y Diwydiant Adeiladu

TASG SP 2 -Gweithredu drilio, torri a gosod

Ffigur 1



Gellir defnyddio unrhyw glipiau addas ar gyfer plymio neu osodiad trydanol.

Uned 105 Terfyniadau a Gwifro Gosodiadau Trydan

Dalen Tasg Asesu

TASG EI 1 – Cylched oleuo un-ffordd

Amser disgwylidig	Amh
Cyfarwyddiadau'r dasg	<p>I gwblhau'r dasg hon, rhaid i chi osod cylched oleuo un-ffordd gan ddefnyddio cebl wedi'i inswleiddio â gwifrau gefell a daear, cebl wedi'i inswleiddio â PVC, wedi'i glipio'n uniongyrchol, gan reoli dau olau fel y mae'r diagram yn dangos. Dylai pob ategolyn gael eu gosod ar yr wyneb. Bydd y ddau olau o fath crog, gan ddefnyddio naill ai dalwyr lamp math sgriw neu fidog neu un o bob un. Bydd eich asesydd yn gosod mesuriadau ar gyfer y gosodiad.</p> <p>Dylech archwilio'n ddiogel a phrofi'r gylched wedi'i chwblhau o ran parhad a gwrthiant ynysu gan ddefnyddio'r ffurflen a ddarperir. Cewch ddefnyddio eich nodiadau i ddilyn y weithdrefn brofi.</p>
Diagramau	Ffigur 1. Tudalen 21.

Cynllun cyn-asesu'r ymgeisydd			
Rwy'n ymwybodol o ofynion asesu, meini prawf a dyraniad amser			
Mae gennyf yr holl offer a chyfarpar i gyflawni'r dasg			
Llofnod yr Ymgeisydd		Dyddiad	

	Mae'r ymgeisydd wedi	Llwyddo	Teilyng Rhagoriaeth dod	
1	defnyddio Offer Diogelu Personol (PPE) ar gyfer cymwysiadau ymarferol trydanol	<input type="checkbox"/>		
2	dilyn arferion iechyd a diogelwch perthnasol	<input type="checkbox"/>		
3	adnabod offer a chyfarpar sy'n cael eu defnyddio ar gyfer gwifro a therfyniadau	<input type="checkbox"/>		
4	defnyddio'n ddiogel yr offer a chyfarpar yn ôl arweiniad i aseswyr.	<input type="checkbox"/>		
5	gosod yn gywir yr ategolion a'r gwifro trydanol canlynol yn ôl manyleb: <ul style="list-style-type: none"> • Cylched oleuo un-ffordd 	<input type="checkbox"/> Ar ôl y trydydd cynnig	<input type="checkbox"/> Ar ôl yr ail gynnig	<input type="checkbox"/> Ar y cynnig cyntaf
6	archwilio'n ddiogel a phrofi cylched wifro wedi'i chwblhau am barhad a gwrthiant ynysu (os na chafodd ei asesu'n gynt)	<input type="checkbox"/>		
7	gadael yr ardal waith mewn cyflwr diogel ar ôl cwblhau'r gwaith	<input type="checkbox"/>		

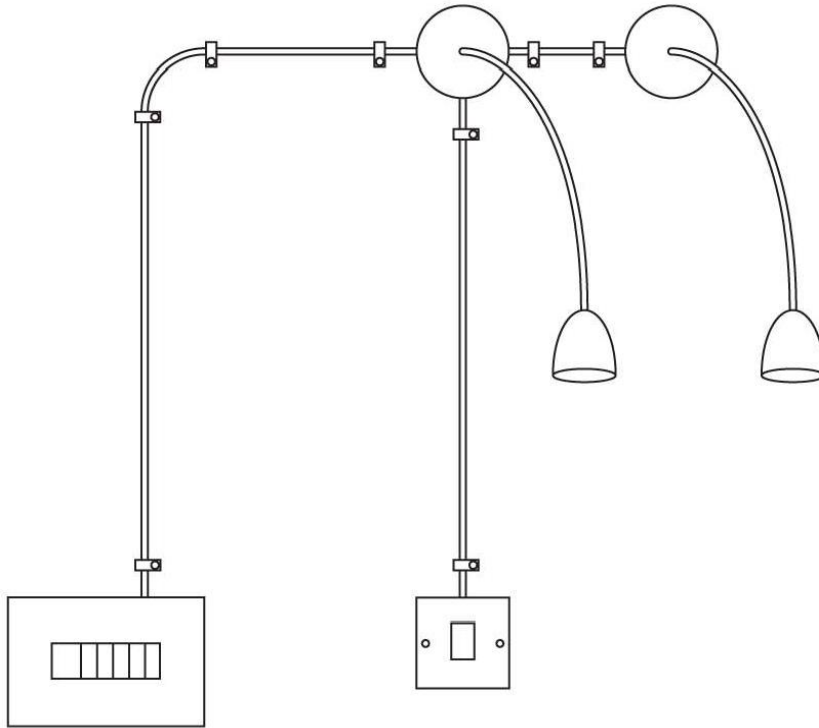
Uned 105 Terfyniadau a Gwifro Gosodiadau Trydanol

TASG EI 1 – Cylched oleuo unffordd

I ddyfarnu **llwyddo**: rhaid bod pob gweithgaredd yn y rhestr wirio wedi'i gyflawni'n llwyddiannus.

Mae'r dasg wedi'i chyflawni'n llwyddiannus yn ôl y safonau a nodwyd			
Person	Printiwch yr enw	Llofnod	Dyddiad
Ymgeisydd			
Asesydd			
Sicrhau ansawdd mewnol (os yw'n ofynnol)			

Ffigur 1



Uned 105 Terfyniadau a Gwifro Gosodiadau Trydan

TASG EI 1 – Cylched oleuo un-ffordd

Dalen Brofi Gosodiadau Trydanol

Prawf un.

Parhad dargludydd amddiffynnolOhms

Prawf dau.

Gwrthiant ynysu L-NMOhms

L-EMOhms

N-EMOhms

Prawf tri.

Polaredd Ticiwch



Mesurydd Ohm/ profwr gwrthiant ynysu
Gwneuthuriad a model

Rhif cyfres

.....

Llofnod yr Ymgeisydd.....

Dyddiad

.....

Uned 105 Terfyniadau a Gwifro Gosodiadau Trydan

Dalen Tasg Asesu

TASG EI 2 –Cylched allfa soced reiddiol

Amser disgwylledig	Amh
Cyfarwyddiadau'r dasg	I gwblhau'r dasg hon, rhaid i chi osod cylched allfa soced reiddiol 20A gan ddefnyddio gwifrau gefell a daear, cebl wedi'i inswleiddio â PVC, wedi'i glipio'n uniongyrchol, gan gyflenwi pedair allfa soced dwbl â swits fel y dangosir ar y diagram. Rhaid i ategolion gael eu gosod ar yr wyneb. Rhaid i chi osod dau ddarn o gebl dur a gan ddefnyddio clampiau bondio BS951, gosod bond atodol 4mm rhyngddynt, gan grimpio clusten briodol i ddau ben y dargludydd bondio a therfynu gwifren tri chraidd i ben plwg 13A. Rhaid i chi nodi peryglon gweithle ac archwilio'n ddiogel a phrofi'r gylched wedi'i chwblhau o ran parhad a gwrthiant ynysu gan ddefnyddio'r ffurflen a ddarperir. Cewch ddefnyddio eich nodiadau i ddilyn y weithdrefn brofi.
Diagramau	Ffigur 2. Tudalen 24.

Cynllun cyn-asesu'r ymgeisydd			
Rwy'n ymwybodol o ofynion asesu, meini prawf a dyraniad amser			
Mae gennyf yr holl offer a chyfarpar i gyflawni'r dasg			
Llofnod yr Ymgeisydd		Dyddiad	

Mae'r ymgeisydd wedi		Llwyddo	Teilyng dod	Rhagoriaeth
1	nodi a rhoi gwybod am unrhyw beryglon gweithdy posibl	<input type="checkbox"/>		
2	gosod yn gywir yr ategolion a'r gwifro trydanol canlynol yn ôl manyleb. dimensiynau <ul style="list-style-type: none"> • terfyniad cebl • clipio • plygiadau cebl • defnyddio lleihad straen cebl • alinio/ gosod ategolion 	<input type="checkbox"/>		
	<ul style="list-style-type: none"> • top plwg 13 amp 	<input type="checkbox"/> Ar ôl y trydydd cynnig	<input type="checkbox"/> Ar ôl yr ail gynnig	<input type="checkbox"/> Ar y cynnig cyntaf
	<ul style="list-style-type: none"> • cylched reiddiol 20A 	<input type="checkbox"/> Ar ôl y trydydd cynnig	<input type="checkbox"/> Ar ôl yr ail gynnig	<input type="checkbox"/> Ar y cynnig cyntaf
3	archwilio'n ddiogel a phrofi cylched wifro wedi'i chwblhau am barhad a gwrthiant ynysu (os na chafodd ei asesu'n gynt)	<input type="checkbox"/>		

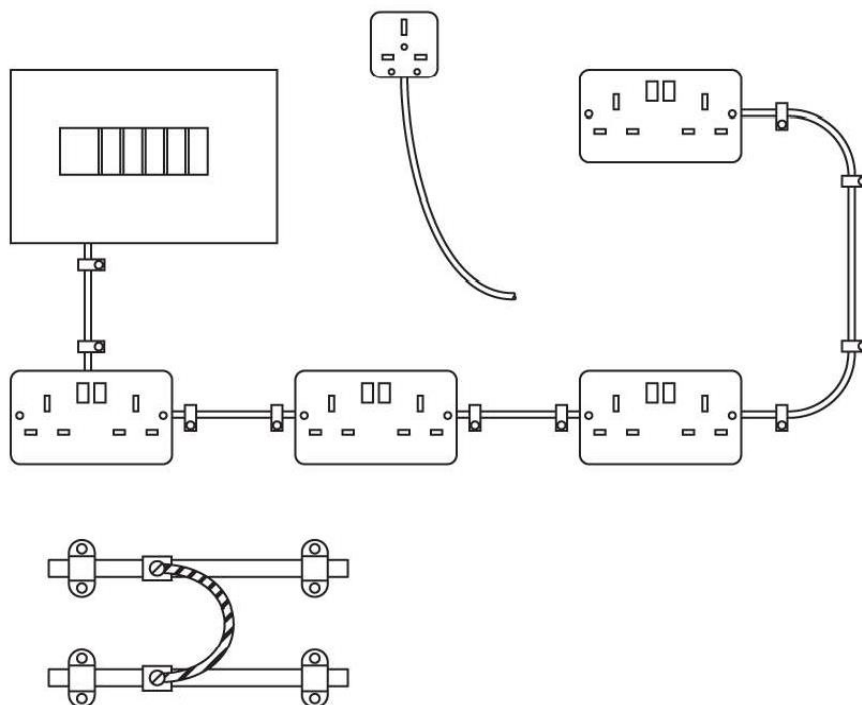
Uned 105 Terfyniadau a Gwifro Gosodiadau Trydan

TASG EI 2 –Cylched allfa soced reiddiol

I ddyfarnu **llwyddo**: rhaid bod pob gweithgaredd yn y rhestr wirio wedi'i gyflawni'n llwyddiannus. I ennill graddau uwch rhaid bodoli'r holl feini prawf llwyddo a'r ddau faen prawf am y radd honno.

Mae'r dasg wedi'i chyflawni'n llwyddiannus yn ôl y safonau a nodwyd			
Person	Printiwch yr enw	Llofnod	Dyddiad
Ymgeisydd			
Asesydd			
Sicrhau ansawdd mewnol (os yw'n ofynnol)			

Ffigur 2



Uned 108 Draenio Uwch Daear

Dalen Tasg Asesu

TASG AGD 1 – Cafnau dŵr glaw

Amser disgwylidig	3 awr
Cyfarwyddiadau'r dasg	I gwblhau'r dasg hon, rhaid i chi osod cafnau dŵr glaw.
Diagramau	Ffigur 1, tudalen 23

Cynllun cyn-asesu'r ymgeisydd			
Rwy'n ymwybodol o ofynion asesu, meini prawf a dyraniad amser			
Mae gennyf yr holl offer a chyfarpar i gyflawni'r dasg			
Llofnod yr Ymgeisydd		Dyddiad	

A	Mae'r ymgeisydd wedi	Llwyddo	Teilyng Rhagoriaeth dod	
1	defnyddio'r Offer Diogelu Personol (PPE) cywir.	<input type="checkbox"/>		
2	gwblhau rhestr ddefnyddiau	<input type="checkbox"/>		
3	defnyddio offer llaw yn ddiogel	<input type="checkbox"/>		
4	mesur yn gywir a chofnodi'r gofynion	<input type="checkbox"/>		
5	paratoi cafnau a ffitiadau peipiau dŵr glaw i'w huno	<input type="checkbox"/>		
6	uno a gosod cafnau a pheipiau dŵr glaw i +/- 4mm	<input type="checkbox"/>		
7	profi'n ddiogel y gosodiad cafnau gorffenedig am fod yn ddiddos o ran dŵr	<input type="checkbox"/>		
8	gadael yr ardal weithio mewn cyflwr diogel	<input type="checkbox"/>		
9	gwblhau'r dasg yn ôl y fanyleb	<input type="checkbox"/> Erbyn y trydydd cynnig	<input type="checkbox"/> Erbyn yr ail gynnig	<input type="checkbox"/> Ar y cynnig cyntaf

I ddyfarnu **llwyddo**: rhaid bod pob gweithgaredd yn y rhestr wirio wedi'i gyflawni'n llwyddiannus

Mae'r dasg wedi'i chyflawni'n llwyddiannus yn ôl y safonau a nodwyd			
Person	Printiwch yr enw	Llofnod	Dyddiad
Ymgeisydd			
Asesydd			
Sicrhau ansawdd mewnol (os yw'n ofynnol)			

Uned 108 Draenio Uwch Daear

Dalen Tasg Asesu

TASG AGD2 – Ffrâm peipen wastraff

Amser disgwylidig	3 awr
Cyfarwyddiadau'r dasg	Er mwyn cwblhau'r dasg hon, rhaid i chi fesur, torri a chasglu'r gwaith ffrâm yn gywir yn unol â'r llniad a gyflenwir.
Diagramau	Ffigur 2, tudalen 25

Cynllun cyn-asesu'r ymgeisydd	
Rwy'n ymwybodol o ofynion asesu, meini prawf a dyraniad amser	
Mae gennyf yr holl offer a chyfarpar i gyflawni'r dasg	
Llofnod yr Ymgeisydd	Dyddiad

Mae'r ymgeisydd wedi		Llwyddo	Teilyng Rhagoriaeth dod	
1	defnyddio'r Offer Diogelu Personol cywir (PPE).	<input type="checkbox"/>		
2	cwblhau rhestr ddefnyddiau	<input type="checkbox"/>		
3	defnyddio offer llaw yn ddiogel	<input type="checkbox"/>		
4	mesur yn gywir a chofnodi'r gofynion.	<input type="checkbox"/>		
5	paratoi'r beipen wastraff a ffitiadau i'w huno	<input type="checkbox"/>		
6	uno peipiau plastig gwastraff a peipiau dŵr glaw gan ddefnyddio'r gweithdrefnau cywir i +/- 4mm	<input type="checkbox"/>		
7	profi'r peipiau gwastraff yn ddiogel	<input type="checkbox"/>		
8	gadael yr ardal weithio mewn cyflwr diogel	<input type="checkbox"/>		
9	cwblhau'r dasg yn ôl y fanyleb	<input type="checkbox"/> Erbyn y trydydd cynnig	<input type="checkbox"/> Erbyn yr ail gynnig	<input type="checkbox"/> Ar y cynnig cyntaf

I ddyfarnu **llwyddo**: rhaid bod pob gweithgaredd yn y rhestr wirio wedi'i gyflawni'n llwyddiannus

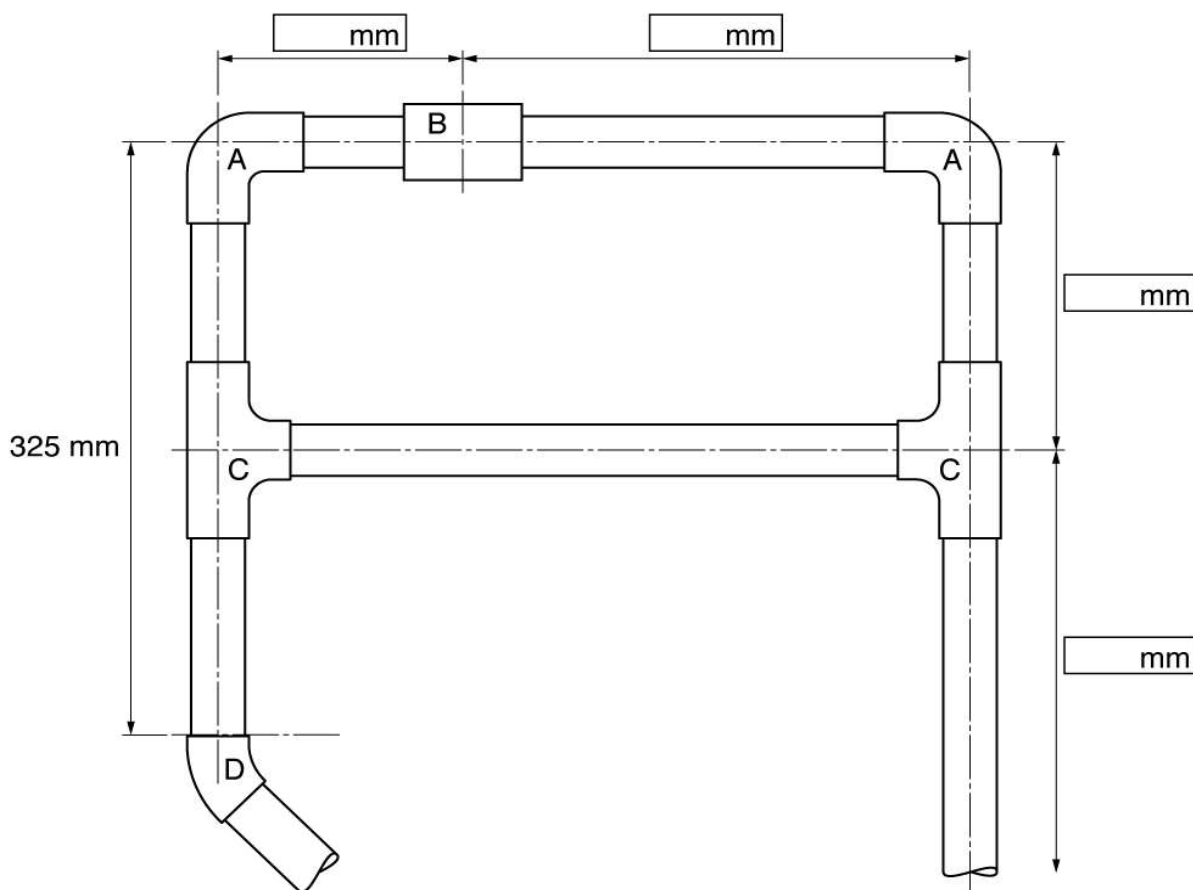
Mae'r dasg wedi'i chyflawni'n llwyddiannus yn ôl y safonau a nodwyd			
Person	Printiwch yr enw	Llofnod	Dyddiad
Ymgeisydd			
Asesydd			
Sicrhau ansawdd mewnol (os yw'n ofynnol)			

Uned 108 Draenio Uwch Daear

TASG AGD2 – Ffrâm peipen wastraff

Ffigur 2

Mesuriadau wedi'u gosod gan yr asesydd



Rhestr defnyddiau	
Nifer	Disgrifiad
Cyfanswm peipiau sydd eu hangen	

Uned 108 Draenio Uwch Daear

Dalen Tasg Asesu

TASG AGD 3 – Tasg adnabod

Amser disgwylidig	Amh
Cyfarwyddiadau'r dasg	I gwblhau'r dasg hon, rhaid i chi nodi'r offer plymio cyffredin sydd i'w gweld yn y delweddau.
Diagramau	Amh

Cynllun cyn-asesu'r ymgeisydd			
Rwy'n ymwybodol o ofynion asesu, meini prawf a dyraniad amser			
Mae gennyf yr holl offer a chyfarpar i gyflawni'r dasg			
Llofnod yr Ymgeisydd		Dyddiad	

Mae'r ymgeisydd wedi		llwyddo
1	cwblhau'r llyfr gwaith	<input type="checkbox"/>

I ddyfarnu **llwyddo**: rhaid bod pob gweithgaredd yn y rhestr wirio wedi'i gyflawni'n llwyddiannus

Mae'r dasg wedi'i chyflawni'n llwyddiannus yn ôl y safonau a nodwyd			
Person	Printiwch yr enw	Llofnod	Dyddiad
Ymgeisydd			
Asesydd			
Sicrhau ansawdd mewnol (os yw'n ofynnol)			

Uned 108 Draenio Uwch Daear

TASG AGD 3 – Tasg adnabod

Nodwch y clipiau a'r ffitiadau canlynol yn y gofod â rhifau a ddarperir.



1



2



3



4



5



6

Uned 108 Draenio Uwch Daear

Dalen Tasg Asesu

TASG AGD 4 – Gosodiad peipen wastraff

Amser disgwylidig	3 awr
Cyfarwyddiadau'r dasg	i gwblhau'r dasg hon rhaid i chi osod yr holl beipiau plastig fel sydd i'w gweld yn y diagram a ddarperir. Bydd y basn wedi'i osod o flaen llaw a bydd y peipiau stac gwastraff a nodir wedi'u hadeiladu o flaen llawn. Rhaid i chi adeiladu, uno a gosod yr holl beipiau eraill.
Diagramau	Ffigur 3, tudalen 29

Cynllun cyn-asesu'r ymgeisydd	
Rwy'n ymwybodol o ofynion asesu, meini prawf a dyraniad amser	
Mae gennyf yr holl offer a chyfarpar i gyflawni'r dasg	
Llofnod yr Ymgeisydd	Dyddiad

MP	Mae'r ymgeisydd wedi	Llwyddo	Teilyng Rhagoriaeth dod	
1	defnyddio'r Offer Diogelu Personol cywir (PPE)	<input type="checkbox"/>		
2	gwblhau rhestr ddefnyddiau	<input type="checkbox"/>		
3	dewis offer ar gyfer y dasg	<input type="checkbox"/>		
4	defnyddio offer llaw yn ddiogel	<input type="checkbox"/>		
5	paratoi (dadarwhau) peipiau a ffitiadau i'w huno	<input type="checkbox"/>		
6	mesur ac uno peipiau	<input type="checkbox"/>		
7	gosod peipiau yn ôl y diagram i +/- 4mm	<input type="checkbox"/>		
8	cynnal profion pwysedd yn ddiogel ar beipiau	<input type="checkbox"/>		
9	gadael yr ardal weithio mewn cyflwr diogel	<input type="checkbox"/>		
10	gwblhau'r dasg yn ôl y fanyleb	<input type="checkbox"/> Erbyn y trydydd cynnig	<input type="checkbox"/> Erbyn yr ail gynnig	<input type="checkbox"/> Ar y cynnig cyntaf

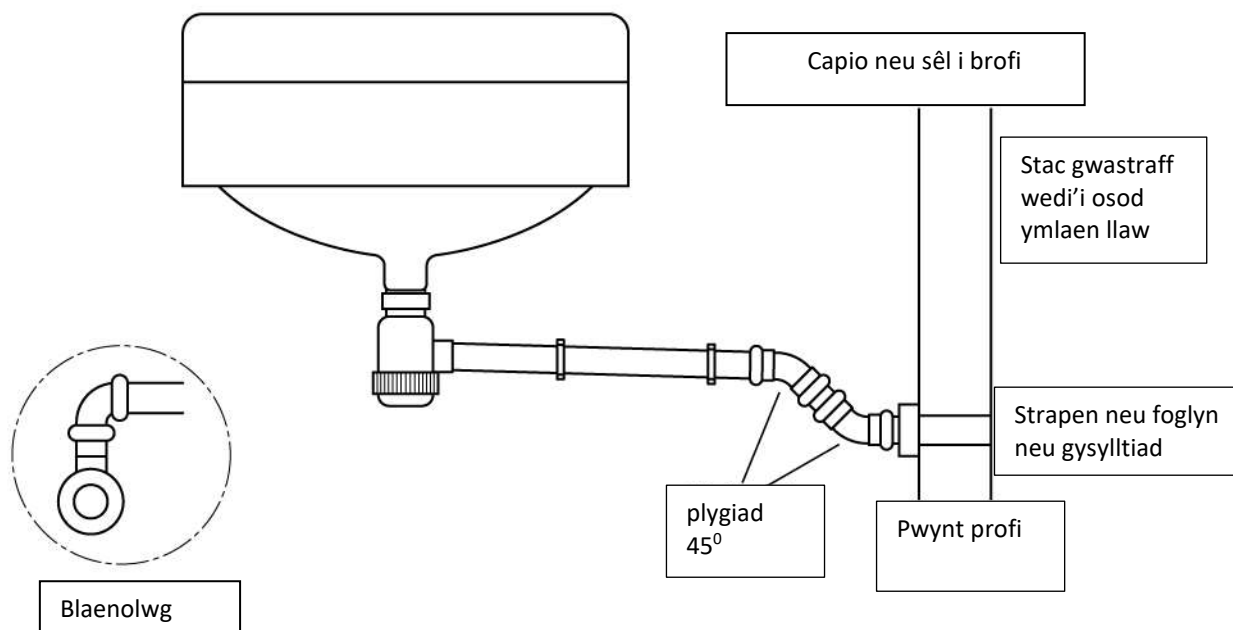
I ddyfarnu **llwyddo**: rhaid bod pob gweithgaredd yn y rhestr wirio wedi'i gyflawni'n llwyddiannus

Mae'r dasg wedi'i chyflawni'n llwyddiannus yn ôl y safonau a nodwyd			
Person	Printiwch yr enw	Llofnod	Dyddiad
Ymgeisydd			
Asesydd			
Sicrhau ansawdd mewnol (os yw'n ofynnol)			

Uned 108 Draenio Uwch Daear

TASG AGD 4 – Gosodiad peipen wastraff

Ffigur 3



Rhestr defnyddiau	
Nifer	Disgrifiad

Uned 109 Peipiau Copr Dalen Tasg Asesu

TASG CP 1 – Ffrâm gopr 1

Amser disgwylidig	4 awr
Cyfarwyddiadau'r dasg	I gwblhau'r dasg hon mae rhaid i chi gydosod y ffrâm yn y diagram a ddarperir.
Diagramau	Ffigur 1, tudalen 31

Cynllun cyn-asesu'r ymgeisydd			
Rwy'n ymwybodol o ofynion asesu, meini prawf a dyraniad amser			
Mae gennyf yr holl offer a chyfarpar i gyflawni'r dasg			
Llofnod yr Ymgeisydd		Dyddiad	

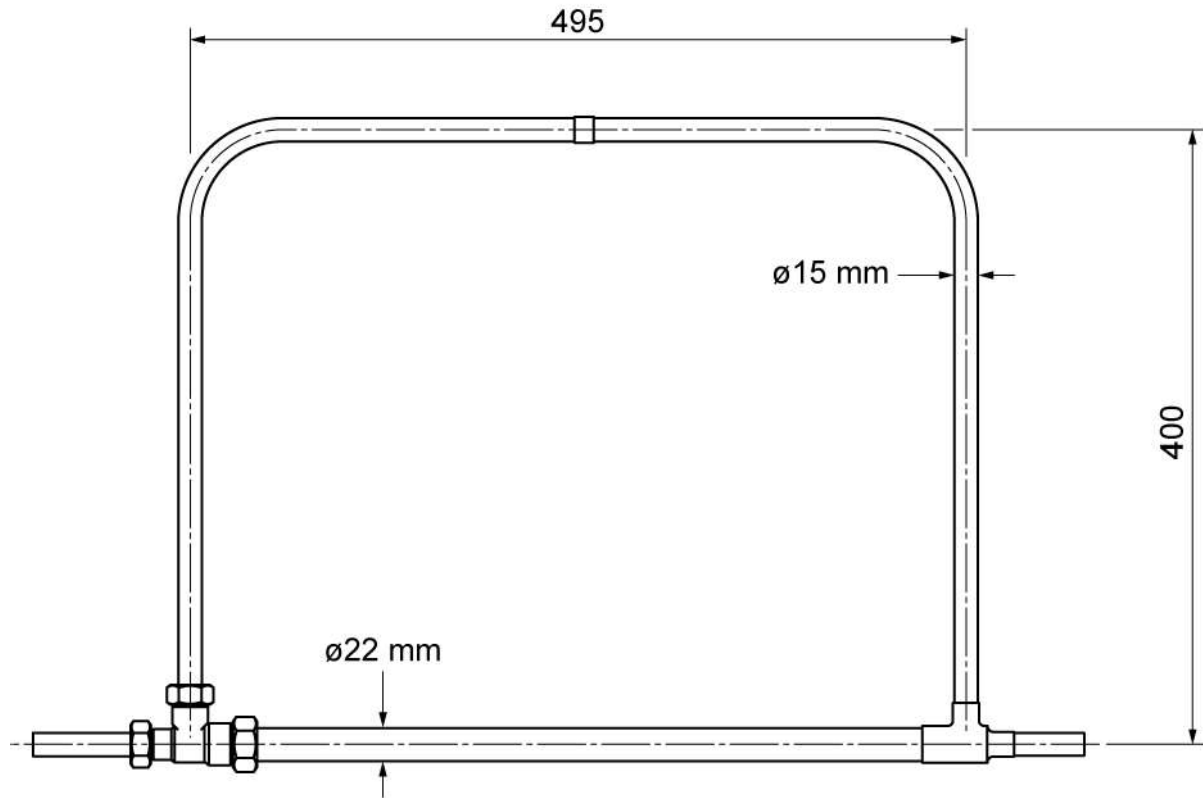
	Mae'r ymgeisydd wedi	Llwyddo	Teilyng Rhagoriaeth dod	
1	defnyddio'r Offer Diogelu Personol cywir (PPE).	<input type="checkbox"/>		
2	gwblhau rhestr ddefnyddiau	<input type="checkbox"/>		
3	dewis offer ar gyfer y dasg	<input type="checkbox"/>		
4	plygu peipiau copr i onglau penodol	<input type="checkbox"/>		
5	defnyddio offer llaw yn ddiogel	<input type="checkbox"/>		
6	paratoi (dadarwhau) peipiau a ffitiadau i'w huno	<input type="checkbox"/>		
7	mesur ac uno peipiau i +/- 4mm	<input type="checkbox"/>		
8	cynnal profion pwysedd yn ddiogel ar beipiau	<input type="checkbox"/>		
9	gadael yr ardal weithio mewn cyflwr diogel	<input type="checkbox"/>		
10	gwblhau'r dasg yn ôl y fanyleb	<input type="checkbox"/> Erbyn y trydydd cynnig	<input type="checkbox"/> Erbyn yr ail gynnig	<input type="checkbox"/> Ar y cynnig cyntaf

I ddyfarnu **llwyddo**: rhaid bod pob gweithgaredd yn y rhestr wirio wedi'i gyflawni'n llwyddiannus

Mae'r dasg wedi'i chyflawni'n llwyddiannus yn ôl y safonau a nodwyd			
Person	Printiwch yr enw	Llofnod	Dyddiad
Ymgeisydd			
Asesydd			
Sicrhau ansawdd mewnol (os yw'n ofynnol)			

Uned 109 Peipiau Copr TASG CP 1 – Ffrâm gopr 1

Ffigur 1



Rhestr defnyddiau

Nifer	Disgrifiad
Cyfanswm peipiau sydd eu hangen	

Uned 109 Peipiau Copr Dalen Tasg Asesu

TASG CP 2 – Ffrâm gopr 2

Amser disgwylidig	3 awr
Cyfarwyddiadau'r dasg	I gwblhau'r dasg hon mae rhaid i chi dorri i mewn ddau T i'r ffrâm o dasg CP1 a'u huno ynghyd gan ddefnyddio ongl fel sydd i'w weld yn y diagram.
Diagramau	Ffigur 2, tudalen 33

Cynllun cyn-asesu'r ymgeisydd			
Rwy'n ymwybodol o ofynion asesu, meini prawf a dyraniad amser			
Mae gennyf yr holl offer a chyfarpar i gyflawni'r dasg			
Llofnod yr Ymgeisydd		Dyddiad	

Mae'r ymgeisydd wedi		Llwyddo	Teilyng Rhagoriaeth dod	
1	defnyddio'r Offer Diogelu Personol cywir (PPE).	<input type="checkbox"/>		
2	gwblhau rhestr ddefnyddiau	<input type="checkbox"/>		
3	dewis offer ar gyfer y dasg	<input type="checkbox"/>		
4	plygu peipiau copr i onglau penodol	<input type="checkbox"/>		
5	defnyddio offer llaw yn ddiogel	<input type="checkbox"/>		
6	paratoi (dadarwhau) peipiau a ffitiadau i'w huno	<input type="checkbox"/>		
7	mesur ac uno peipiau i +/- 4mm	<input type="checkbox"/>		
8	cynnal profion pwysedd yn ddiogel ar beipiau	<input type="checkbox"/>		
9	gadael yr ardal weithio mewn cyflwr diogel	<input type="checkbox"/>		
10	gwblhau'r dasg yn ôl y fanyleb	<input type="checkbox"/> Erbyn y trydydd cynnig	<input type="checkbox"/> Erbyn yr ail gynnig	<input type="checkbox"/> Ar y cynnig cyntaf

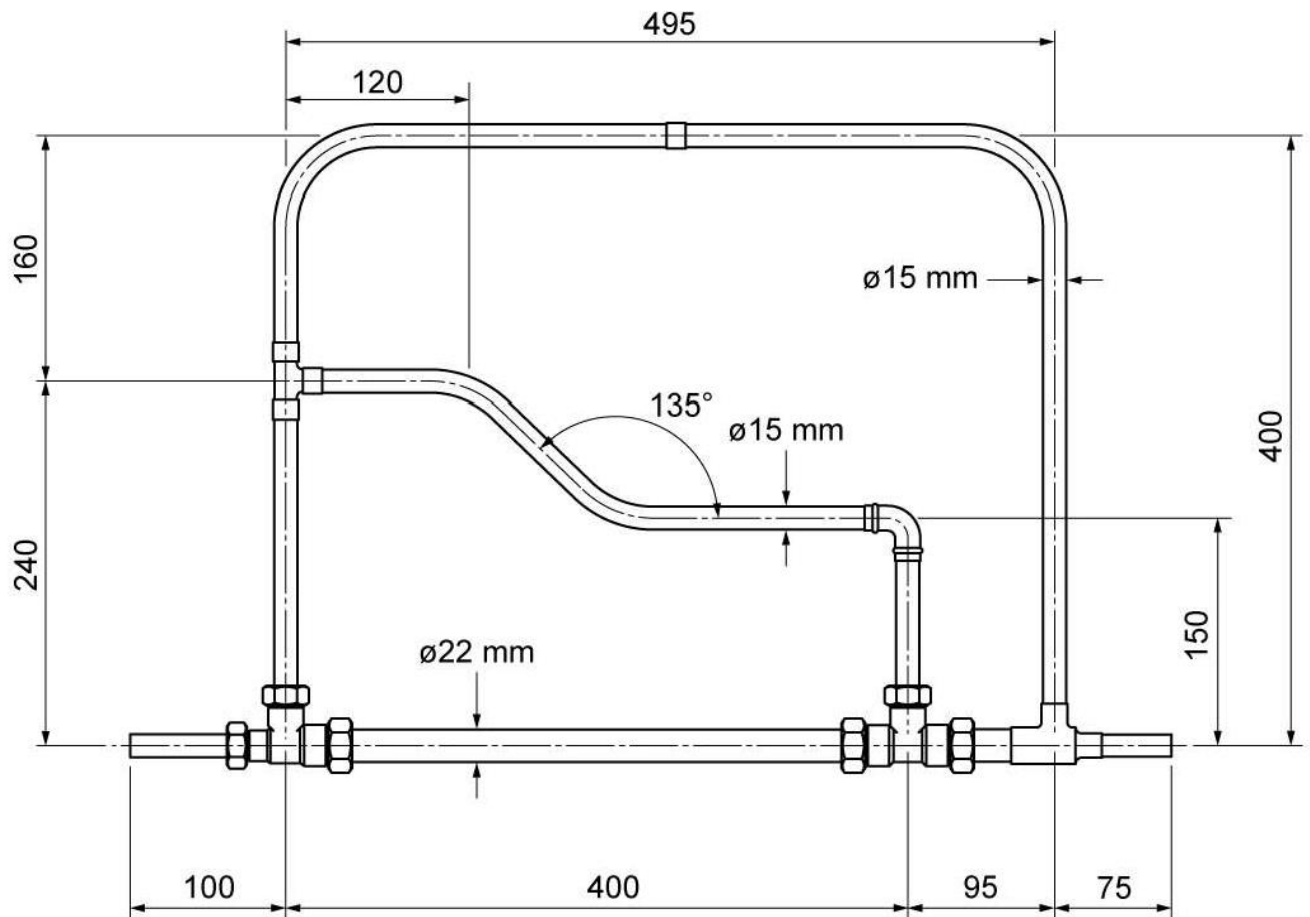
I ddyfarnu **llwyddo**: rhaid bod pob gweithgaredd yn y rhestr wirio wedi'i gyflawni'n llwyddiannus

Mae'r dasg wedi'i chyflawni'n llwyddiannus yn ôl y safonau a nodwyd			
Person	Printiwch yr enw	Llofnod	Dyddiad
Ymgeisydd			
Asesydd			
Sicrhau ansawdd mewnol (os yw'n ofynnol)			

Uned 109 Peipiau Copr

TASG CP 2 – Ffrâm gopr 2

Ffigur 2



Rhestr defnyddiau	
Nifer	Disgrifiad
Cyfanswm peipiau sydd eu hangen	

Uned 109 Peipiau Copr Dalen Tasg Asesu

Tasg CP 3 – Tasg adnabod

Amser disgwylidig	Amh
Cyfarwyddiadau'r dasg	i gwblhau'r dasg hon mae rhaid i chi adnabod y ffitiadau a'r clipiau sydd i'w gweld.
Diagramau	Amh

Cynllun cyn-asesu'r ymgeisydd			
Rwy'n ymwybodol o ofynion asesu, meini prawf a dyraniad amser			
Mae gennyf yr holl offer a chyfarpar i gyflawni'r dasg			
Llofnod yr Ymgeisydd		Dyddiad	

Mae'r ymgeisydd wedi		Llwyddo
1	cwblhau'r llyfr gwaith	<input type="checkbox"/>





I ddyfarnu **llwyddo**: rhaid bod pob gweithgaredd yn y rhestr wirio wedi'i gyflawni'n llwyddiannus

Mae'r dasg wedi'i chyflawni'n llwyddiannus yn ôl y safonau a nodwyd			
Person	Printiwch yr enw	Llofnod	Dyddiad
Ymgeisydd			
Asesydd			
Sicrhau ansawdd mewnol (os yw'n ofynnol)			

Uned 109 Peipiau Copr

Tasg CP 3 – Tasg adnabod

Adnabyddwch bob un o'r ffitiadau a'r clipiau isod yn y colofnau â'r pennawd 'Disgrifiad'.

Gosodiad	Disgrifiad	Clip	Disgrifiad
	1.		6.
	2.		7.
	3.		8.
	4.		9.
	5.		

Uned 109 Peipiau Copr Dalen Tasg Asesu

TASG CP 4 – Gosod peipen gopr

Amser disgwylidig	3 awr
Cyfarwyddiadau'r dasg	I gwblhau'r dasg hon rhaid i chi osod yr holl beipiau copr fel sydd i'w weld yn y diagram a ddarperir. Bydd y basn a'r falfiau wedi'u gosod o flaen llaw a bydd y peipiau a nodir wedi'u adeiladu o flaen llaw. Mae rhaid i chi adeiladu, uno a gosod yr holl beipiau eraill.
Diagramau	Ffigur 3, tudalen 37

Cynllun cyn-asesu'r ymgeisydd			
Rwy'n ymwybodol o ofynion asesu, meini prawf a dyraniad amser			
Mae gennyf yr holl offer a chyfarpar i gyflawni'r dasg			
Llofnod yr Ymgeisydd		Dyddiad	

Mae'r ymgeisydd wedi		Llwyddo	Teilyng dod	Rhagori aeth
1	defnyddio'r Offer Diogelu Personol cywir (PPE)	<input type="checkbox"/>		
2	gwblhau rhestr ddefnyddiau	<input type="checkbox"/>		
3	dewis offer ar gyfer y dasg	<input type="checkbox"/>		
4	defnyddio offer llaw yn ddiogel	<input type="checkbox"/>		
5	paratoi (dadarwahu) peipiau a ffittiadau i'w huno	<input type="checkbox"/>		
6	mesur ac uno peipiau i +/- 4mm	<input type="checkbox"/>		
7	gosod peipiau yn ôl y diagram	<input type="checkbox"/>		
8	cynnal profion pwysedd yn ddiogel ar beipiau	<input type="checkbox"/>		
9	gadael yr ardal weithio mewn cyflwr diogel	<input type="checkbox"/>		
10	gwblhau'r dasg yn ôl y fanyleb	<input type="checkbox"/> Erbyn y trydydd cynnig	<input type="checkbox"/> Erbyn yr ail gynnig	<input type="checkbox"/> Ar y cynnig cyntaf

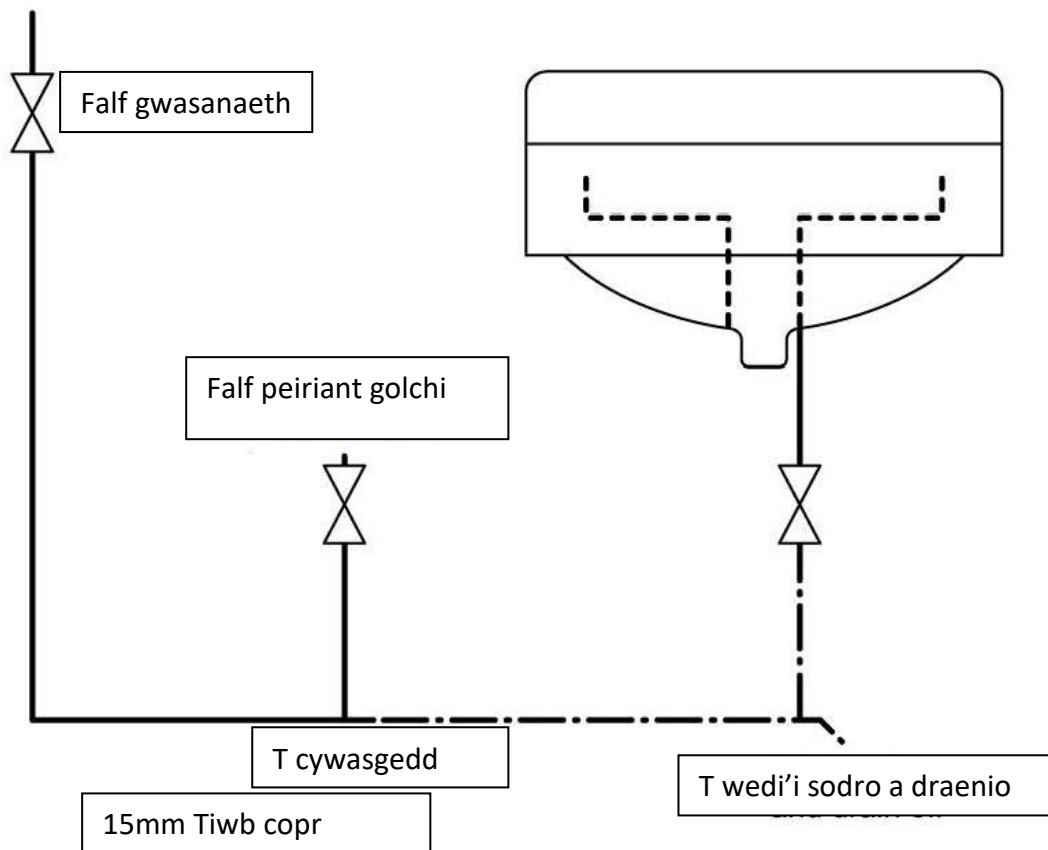
I ddyfarnu **llwyddo**: rhaid bod pob gweithgaredd yn y rhestr wirio wedi'i gyflawni'n llwyddiannus

Mae'r dasg wedi'i chyflawni'n llwyddiannus yn ôl y safonau a nodwyd			
Person	Printiwch yr enw	Llofnod	Dyddiad
Ymgeisydd			
Asesydd			
Sicrhau ansawdd mewnol (os yw'n ofynnol)			

Uned 109 Peipiau Copr

TASG CP 4 – Gosod peipen gopr

Ffigur 3



Allwedd: Peipiau wedi'u hadeiladu o flaen llaw

--- Peipiau wedi'u hadeiladu a'u gosod gan yr ymgeisydd

Rhestr defnyddiau	
Nifer	Disgrifiad

Uned 110 Peipiau Pwysedd Blastig

Dalen Tasg Asesu

TASG P1 – Ffrâm peipiau pwysedd plastig

Amser disgwylidig	Amh
Cyfarwyddiadau'r dasg	i gwblhau'r dasg mae rhaid i chi adeiladu'r ffrâm yn y diagram a ddarperir. Dylech chi gofnodi A a B sydd ar goll ar y diagram i gyfrifo faint o beipen sydd ei hangen ar gyfer y ffrâm.
Diagramau	Ffigur 1, tudalen 39

Cynllun cyn-asesu'r ymgeisydd			
Rwy'n ymwybodol o ofynion asesu, meini prawf a dyraniad amser			
Mae gennyf yr holl offer a chyfarpar i gyflawni'r dasg			
Llofnod yr Ymgeisydd		Dyddiad	

	Mae'r ymgeisydd wedi	Llwyddo	Teilyngdod	Rhagoriaeth
1	defnyddio'r Offer Diogelu Personol cywir (PPE).	<input type="checkbox"/>		
2	cwblhau rhestr ddefnyddiau	<input type="checkbox"/>		
3	dewis offer ar gyfer y dasg	<input type="checkbox"/>		
4	defnyddio offer llaw yn ddiogel	<input type="checkbox"/>		
5	paratoi (dadarwchau) peipiau a ffitiadau i'w huno	<input type="checkbox"/>		
6	mesur ac uno peipiau i +/- 4mm	<input type="checkbox"/>		
7	cynnal profion pwysedd yn ddiogel ar beipiau	<input type="checkbox"/>		
8	gadael yr ardal weithio mewn cyflwr diogel	<input type="checkbox"/>		
9	cwblhau'r dasg yn ôl y fanyleb	<input type="checkbox"/> Erbyn y trydydd cynnig	<input type="checkbox"/> Erbyn yr ail gynnig	<input type="checkbox"/> Ar y cynnig cyntaf

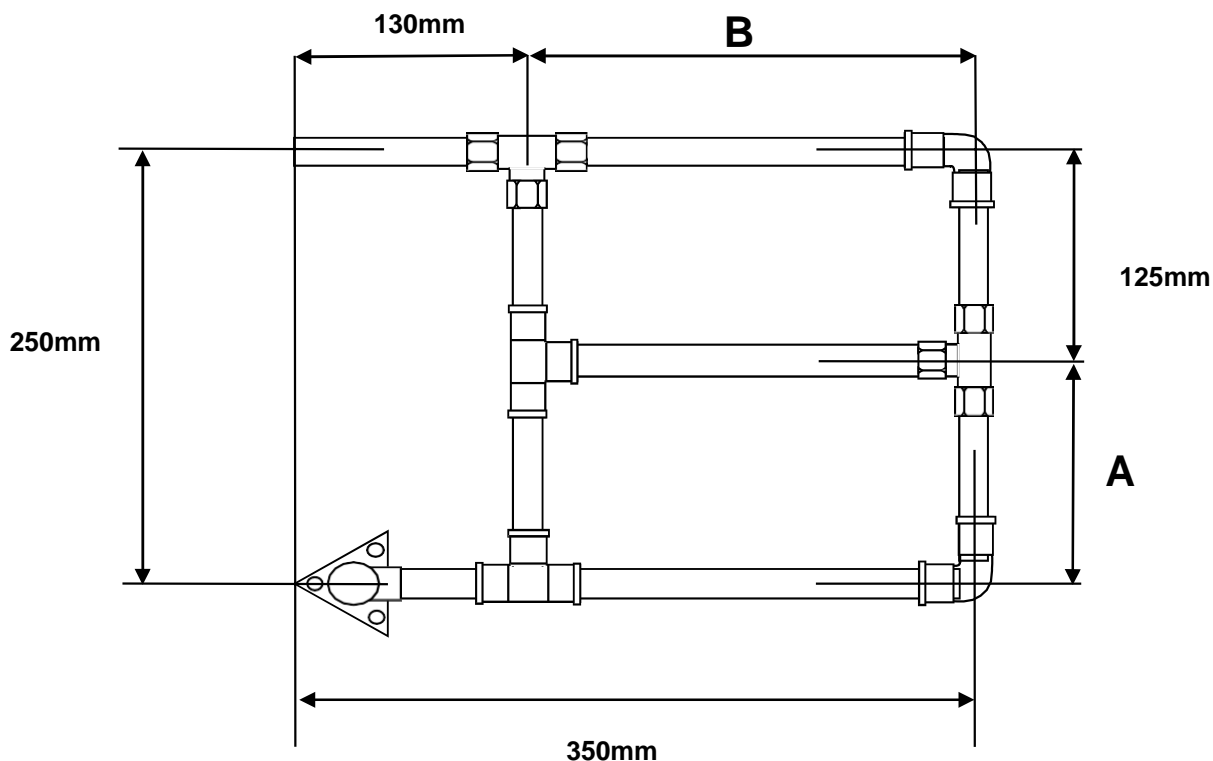
I ddyfarnu **llwyddo**: rhaid bod pob gweithgaredd yn y rhestr wirio wedi'i gyflawni'n llwyddiannus

Mae'r dasg wedi'i chyflawni'n llwyddiannus yn ôl y safonau a nodwyd			
Person	Printiwch yr enw	Llofnod	Dyddiad
Ymgeisydd			
Asesydd			
Sicrhau ansawdd mewnol (os yw'n ofynnol)			

Uned 110- Peipiau Pwysedd Plastig

TASG P1 – Ffrâm peipiau pwysedd plastig

Ffigur 1



	Dimensiynau Coll
Mesuriad A	
Mesuriad B	

Rhestr defnyddiau	
Nifer	Disgrifiad
Cyfanswm peipiau sydd eu hangen	

Uned 110 Peipiau Pwysedd Blastig

Dalen Tasg Asesu

TASG P 2– Gosod peipen bwysedd blastig

Amser disgwylidig	3 awr
Cyfarwyddiadau'r dasg	I gwblhau'r dasg hon rhaid i chi osod yr holl beipiau pwysedd plastig fel sydd i'w weld yn y diagram a ddarperir. Bydd y basn a'r falfiau wedi'u gosod o flaen llaw a bydd y peipiau a nodir wedi'u adeiladu o flaen llaw. Rhaid i chi adeiladu, uno a gosod yr holl peipiau eraill.
Diagramau	Ffigur 2, tudalen 40

Cynllun cyn-asesu'r ymgeisydd			
Rwy'n ymwybodol o ofynion asesu, meini prawf a dyraniad amser			
Mae gennyf yr holl offer a chyfarpar i gyflawni'r dasg			
Llofnod yr Ymgeisydd		Dyddiad	

Mae'r ymgeisydd wedi		Llwyddo	Teilyng Rhagoriaeth dod	
1	defnyddio'r Offer Diogelu Personol cywir (PPE)	<input type="checkbox"/>		
2	gwblhau rhestr ddefnyddiau	<input type="checkbox"/>		
3	dewis offer ar gyfer y dasg	<input type="checkbox"/>		
4	defnyddio offer llaw yn ddiogel	<input type="checkbox"/>		
5	paratoi (dadarwheu) peipiau a ffitiadau i'w huno	<input type="checkbox"/>		
6	mesur ac uno peipiau	<input type="checkbox"/>		
7	gosod peipiau yn ôl y diagram i +/- 4mm	<input type="checkbox"/>		
8	cynnal profion pwysedd yn ddiogel ar beipiau	<input type="checkbox"/>		
9	gadael yr ardal weithio mewn cyflwr diogel	<input type="checkbox"/>		
10	gwblhau'r dasg yn ôl y fanyleb	<input type="checkbox"/> Erbyn y trydydd cynnig	<input type="checkbox"/> Erbyn yr ail gynnig	<input type="checkbox"/> Ar y cynnig cyntaf

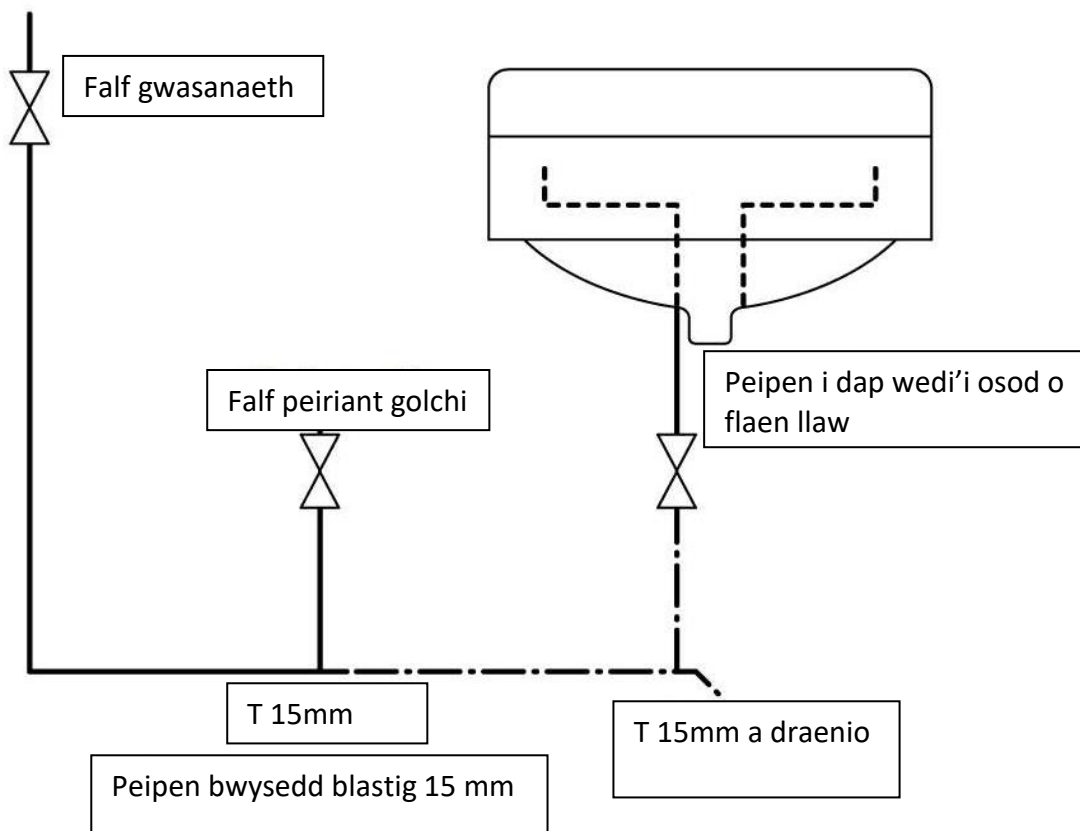
I ddyfarnu **llwyddo**: rhaid bod pob gweithgaredd yn y rhestr wirio wedi'i gyflawni'n llwyddiannus

Mae'r dasg wedi'i chyflawni'n llwyddiannus yn ôl y safonau a nodwyd			
Person	Printiwch yr enw	Llofnod	Dyddiad
Ymgeisydd			
Asesydd			
Sicrhau ansawdd mewnol (os yw'n ofynnol)			

Uned 110 Peipiau Pwysedd Plastig

TASG P 2– Gosod peipen bwysedd blastig

Ffigur 2



Allwedd: ————— Peipiau wedi'u hadeiladu o flaen llaw

- - - - - Peipiau wedi'u hadeiladu a'u gosod gan yr ymgeisydd

Rhestr defnyddiau	
Nifer	Disgrifiad

Uned 112 Gosod, Trwsio a Chynnal Systemau Plymio Dalen Tasg Aseu

TASG IRM 1 – Lleoli ac ynysu cyflenwadau dŵr poeth ac oer

Amser disgwylidig	1 awr
Cyfarwyddiadau'r dasg	I gwblhau'r dasg hon mae rhaid i chi lleoli ac ynysu cyflenwadau dŵr poeth ac oer .
Diagramau	Amh

Cynllun cyn-aseu'r ymgeisydd			
Rwy'n ymwybodol o ofynion aseu, meini prawf a dyraniad amser			
Mae gennyf yr holl offer a chyfarpar i gyflawni'r dasg			
Llofnod yr Ymgeisydd		Dyddiad	

Mae'r ymgeisydd wedi		Llwyddo
1	lleoli a throi i ffwrdd holl falfiau'r prif gyflenwadau dŵr oer i gau'r teclynnau a'r cyfarpar ar gyfer cynnal a chadw a thrwsio	<input type="checkbox"/>
2	lleoli a throi i ffwrdd yr holl falfiau dŵr poeth i gau teclynnau ac offer ar gyfer cynnal a chadw a thrwsio.	<input type="checkbox"/>

I ddyfarnu **llwyddo**: rhaid bod pob gweithgaredd yn y rhestr wirio wedi'i gyflawni'n llwyddiannus

Mae'r dasg wedi'i chyflawni'n llwyddiannus yn ôl y safonau a nodwyd			
Person	Printiwch yr enw	Llofnod	Dyddiad
Ymgeisydd			
Asesydd			
Sicrhau ansawdd mewnol (os yw'n ofynnol)			

Uned 112 Gosod, Trwsio a Chynnal Systemau Plymio

Dalen Tasg Asesu

TASG IRM 2 – Trwsio a chynnal tapiau a falfiau

Amser disgwylidig	2 awr
Cyfarwyddiadau'r dasg	<p>Mae angen i chi drwsio a chynnal y canlynol:</p> <p>Tap A</p> <ul style="list-style-type: none"> • rhoi wasier newydd • ail-iro gwerthyd (spindle) â saim silicon • gwirio cylch rwber “O” ar ben tap <p>Tap B</p> <ul style="list-style-type: none"> • ailbacio gland pacio <p>dychwelwch bob falf a thap i'w cyflwr gweithio a lleoliad gwreiddiol.</p>
Diagramau	Amh

Cynllun cyn-asesu'r ymgeisydd	
Rwy'n ymwybodol o ofynion asesu, meini prawf a dyraniad amser	
Mae gennyf yr holl offer a chyfarpar i gyflawni'r dasg	
Llofnod yr Ymgeisydd	Dyddiad

Mae'r ymgeisydd wedi		Llwyddo	Teilyng Rhagoriaeth dod	
1	cynnal gweithgaredd cynnal a chadw ar Dap A	<input type="checkbox"/> Erbyn y trydydd cynnig	<input type="checkbox"/> Erbyn yr ail gynnig	<input type="checkbox"/> Ar y cynnig cyntaf
2	cynnal gweithgaredd cynnal a chadw ar Dap B	<input type="checkbox"/> Erbyn y trydydd cynnig	<input type="checkbox"/> Erbyn yr ail gynnig	<input type="checkbox"/> Ar y cynnig cyntaf

I ddyfarnu **llwyddo**: rhaid bod pob gweithgaredd yn y rhestr wirio wedi'i gyflawni'n llwyddiannus. I ennill graddau uwch rhaid bodoli'r holl feini prawf llwyddo a'r ddau faen prawf am y radd honno.

Mae'r dasg wedi'i chyflawni'n llwyddiannus yn ôl y safonau a nodwyd			
Person	Printiwch yr enw	Llofnod	Dyddiad
Ymgeisydd			
Asesydd			
Sicrhau ansawdd mewnol (os yw'n ofynnol)			

Uned 112 Gosod, Trwsio a Chynnal Systemau Plymio

Dalen Tasg Asesu

TASG IRM 3 – Trwsio a chynnal falfiau sy'n gweithio trwy fflôt

Amser disgwyliedig	1 awr
Cyfarwyddiadau'r dasg	Rhaid i chi weithredu cynnal a chadw ar falf a weithredir gan fflôt patrwm diaffram. Dylid datgymalu'r falf a weithredir gan fflôt, ei glanhau, rhoi wasieri a fflotiau newydd a'i chydod etc.
Diagramau	Amh

Cynllun cyn-asesu'r ymgeisydd			
Rwy'n ymwybodol o ofynion asesu, meini prawf a dyraniad amser			
Mae gennyf yr holl offer a chyfarpar i gyflawni'r dasg			
Llofnod yr Ymgeisydd		Dyddiad	

Mae'r ymgeisydd wedi		Llwyddo Teilyng- Rhagoriaeth dod		
1	cynnal gweithgaredd cynnal a chadw ar falfiau a weithredir gan fflôt.	<input type="checkbox"/> Erbyn y trydydd cynnig	<input type="checkbox"/> Erbyn yr ail gynnig	<input type="checkbox"/> Ar y cynnig cyntaf

I ddyfarnu **llwyddo**: rhaid bod pob gweithgaredd yn y rhestr wirio wedi'i gyflawni'n llwyddiannus

Mae'r dasg wedi'i chyflawni'n llwyddiannus yn ôl y safonau a nodwyd			
Person	Printiwch yr enw	Llofnod	Dyddiad
Ymgeisydd			
Asesydd			
Sicrhau ansawdd mewnol (os yw'n ofynnol)			

3 Tasgau gwybodaeth

Pecyn i'w hollti yma

Rhaid i dasgau gwybodaeth **beidio** â chael eu dosbarthu i'r ymgeiswyr nes eu bod yn barod i gymryd yr asesiad, a rhaid iddyn nhw gael eu cymryd fel profion llyfrau caeedig o dan oruchwyliaeth.

Uned 101 Strwythur y Diwydiant Adeiladu

Dalen Tasg Asesu

TASG CI 1– Asesu gwybodaeth

Amser disgwylidig	75 munud
Cyfarwyddiadau'r dasg	Rhaid i chi gwblhau prawf llyfr caeedig wedi'i gymryd o dan oruchwyliaeth.

Cynllun cyn-asesu'r ymgeisydd			
Rwy'n ymwybodol o ofynion asesu, meini prawf a dyraniad amser			
Llofnod yr Ymgeisydd		Dyddiad	

Mae'r ymgeisydd wedi		Llwyddo
1	cwblhau'r llyfr gwaith	<input type="checkbox"/> 40-50 marc

Mae'r dasg wedi'i chyflawni'n llwyddiannus yn ôl y safonau a nodwyd			
Person	Printiwch yr enw	Llofnod	Dyddiad
Ymgeisydd			
Asesydd			
Sicrhau ansawdd mewnol (os yw'n ofynnol)			

Uned 101 Strwythur y Diwydiant Adeiladu

TASG CI 1– Aesu gwybodaeth

Rhan
1

Cwestiynau

Marciau

1 Nodwch enw'r masnachwr sy'n gwneud y gwaith sydd wedi'i restru isod. 5 marc

Disgrifiad	Masnachwr
Gosod goleuadau, gwifrau cyflenwad pŵer	
Cyflenwad dŵr poeth ac oer, gwres canolog, carthffosiaeth a draenio	
Gosod drysau, ffenestri, to, sgertin ac architraf	
Adeiladu waliau mewn brics, bloc a cherrig	
Gorffeniad llyfn i arwynebau wal yn barod i'w haddurno	

2 Cysylltwch y peryglon â'r masnachwr **mwyafr** tebygol o ddod ar eu traws trwy dynnu llinell rhwng y ddau flwch. 5 marc

Peryglon
Llosgiadau, sioc drydanol
Anadlu llwch, codi a chario
Archollion, crafiadau, gweithio ar uchder, codi a chario
Toddyddion, anweddu, llosgiadau
Archollion, crafiadau, anadlu llwch, toddyddion, anweddu

Masnachwr
Plymer
Saer
Trydanwr
Briciwr
Plastrwr

Atebwch y **tri** chwestiwn aml-ddewis canlynol. (Rhowch gylch am un ateb ym mhob chwestiwn)

- 3 Gelwir cwmni sy'n cael ei redeg gan berchennog y busnes yn 1 marc
- a) partneriaeth
 - b) masnachwr unigol
 - c) Cwmni Cyfyngedig Cyhoeddus
 - ch) Cwmni Cyfyngedig Preifat.

-
- 4 Gelwir cwmni sy'n ymgymryd â gwaith i'r prif gontractwr yn 1 marc
- a) masnachwr unigol
 - b) hunan gyflogedig
 - c) is-gontractwr
 - ch) ymgynghorydd.

-
- 5 Gelwir cwmni sydd ond yn cwblhau rhai mathau penodol o waith yn 1 marc
- a) is-gontractwr
 - b) prif gontractwr
 - c) contractwr arbenigol
 - ch) cwmni preifat.

6 a) Rhestrwch **ddwy** rôl arbenigol i blymwyr. 2 farc

1 _____

2 _____

b) Rhestrwch **ddwy** rôl arbenigol i drydanwyr. 2 farc

1 _____

2 _____




7 Cyfatebwch y rôl i'r disgrifiad o'r swydd drwy dynnu llinell rhwng y ddau. 6 marc

Disgrifiad	Rôl
Cynrychiolydd penseiri ar y safle	Pensaer
Yn gyfrifol am yr holl weithrediadau gweithio ar y safle gan gynnwys yr holl iechyd a diogelwch	Peiriannydd strwythurol
Cwblhau'r holl luniadau sydd eu hangen ar gyfer y gwaith adeiladu	Clerc y gwaith
Yn cael dyfynbrisiau gan yr holl gyflenwyr ar gyfer defnyddiau	Amcangyfrifydd
Yn archebu'r defnyddiau i gyrraedd y safle	Prynwr
Yn gwneud yn siŵr bod y gwaith adeiladu yn ddigon cryf i ddwyn y llwythi sy'n cael eu gosod arno	Rheolwr safle

8a

Nodwch a yw'r sefydliadau canlynol yn delio â diwydiannau plymio, trydanol neu'r ddau ddiwydiant.

4 marc

Sefydliad	Ateb
 <p>Cyd-Fwrdd Diwydiant</p>	
 <p>Sefydliad Technoleg Beirianegol</p>	
 <p>Cymdeithas Contractwyr Trydanol</p>	
 <p>Cymdeithas Contractwyr Plymio a Gwresogi</p>	

8b

Nodwch **ddau** gyfrifoldeb am **bob un** o'r sefydliadau canlynol.

4 marc

a) Cymdeithas Contractwyr Plymio a Gwresogi

1 _____

2 _____

b) Cymdeithas Contractwyr Trydanol

1 _____

2 _____

Atebwch y **ddau** gwestiwn amlddewis canlynol. (Rhowch gylch am un ateb ym mhob cwestiwn).

- 9 Pa gorff diwydiant sy'n gyfrifol am sicrhau bod y dŵr sy'n cael ei gyflenwi i gartrefi yn lân ac yn ddiogel i'w yfed? 1 marc
- a) Rheoliadau Dŵr
 - b) Awdurdod Lleol.
 - c) Plymer.
 - ch) Awdurdod Dŵr
- 10 Pa sefydliad sy'n gyfrifol am sicrhau bod y trydan sy'n cael ei gyflenwi mewn cartrefi yn ddiogel? 1 marc
- a) Rheoliadau Dŵr
 - b) Rheolaeth Adeiladau.
 - c) Plymer.
 - ch) Awdurdod Dŵr
- 11 Pan fydd tad i blentyn newydd-anedig yn dymuno cymryd amser i ffwrdd o'r gwaith i helpu gyda'r baban caiff ei alw'n 1 marc
- a) Absenoldeb mamolaeth
 - b) Absenoldeb tadolaeth
 - c) Absenoldeb gwyliau
 - ch) Absenoldeb salwch.
- 12 Os caiff rhywun ei ddiswyddo a'i fod wedi bod gyda'r cyflogwr am lai na blwyddyn, yr isafswm rhybudd y dylent ei gael yw 1 marc
- a) un wythnos
 - b) pythefnos
 - c) un diwrnod am bob wythnos sydd wedi'i gweithio
 - ch) dau ddiwrnod am bob wythnos sydd wedi'i gweithio.
- 13 Y swm cyfreithiol **lleiaf** o dâl gwyliau bob blwyddyn yw 1 marc
- a) 4 wythnos
 - b) 4.6 wythnos
 - c) 5 wythnos
 - ch) 5.6 wythnos.

Uned 101 Strwythur y Diwydiant Adeiladu

TASG CI 1– Aesu gwybodaeth

Rhan 2

Atebwch y **pum** cwestiwn amlddewis canlynol. (Rhowch gylch am un ateb ym mhob cwestiwn).

- 14 Y nifer uchaf o oriau y mae modd eu gweithio mewn wythnos weithio arferol yw 1 marc
- a) 37 awr
 - b) 40 awr
 - c) 45 awr
 - ch) 48 awr.

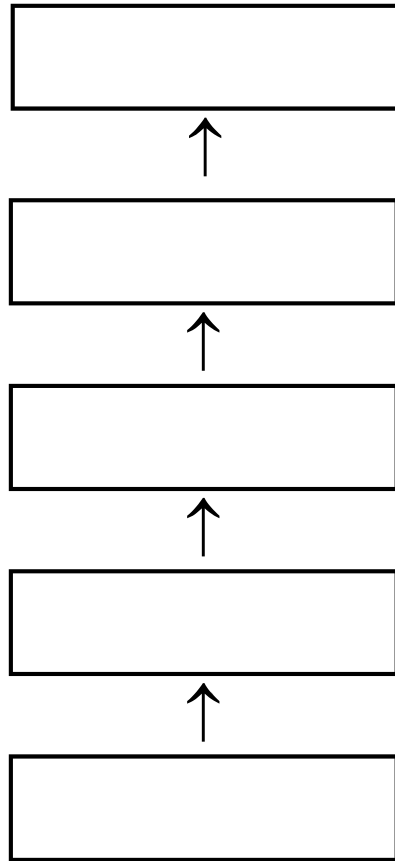
-
- 15 I fod yn gymwys am Dâl Salwch Statudol (SSP) rhaid i weithiwr fod wedi bod i ffwrdd o'r gwaith yn barhaus am 1 marc
- a) 1 dydd
 - b) 2 ddydd
 - c) 3 dydd
 - ch) 4 dydd.

-
- 16 Nodwch **dair** ffurf wahanol o wahaniaethu. 3 marc
- 1 _____
- 2 _____
- 3 _____

-
- 17 Nodwch **ddwy** ffynhonnell o wybodaeth deddfwriaeth cyflogaeth. 2 farc
- 1 _____
- 2 _____

Dangoswch y llwybr dilyniant cywir o fewn cwmni mawr drwy labelu'r blychau isod.

Labeli: Goruchwyliwr, Masnachwr Cymwys, Prentis, Cyfarwyddwr, Rheolwr



Atebwch y **ddau** gwestiwn amlddewis canlynol. (Rhowch gylch am un ateb ym mhob cwestiwn)

- 19 Y gofyniad lleiaf i blymer prentis ddod yn fasnachwr cymwys yn 1 marc
- a) Cymhwyster perthnasol NVQ Lefel 1
 - b) Cymhwyster perthnasol NVQ Lefel 2
 - c) Cymhwyster perthnasol NVQ Lefel 3
 - ch) Cymhwyster perthnasol NVQ Lefel 4.

-
- 20 Y gofyniad lleiaf i brentis trydanwr ddod yn fasnachwr cymwys yw 1 marc
- a) Cymhwyster perthnasol NVQ Lefel 1
 - b) Cymhwyster perthnasol NVQ Lefel 2
 - c) Cymhwyster perthnasol NVQ Lefel 3
 - ch) Cymhwyster perthnasol NVQ Lefel 4

Ymgais	Dyddiad a llythrennau blaen yr asesydd	Sgôr (allan o 50)
1		
2		

Uned 102 Arferion Gweithio Diogel Sylfaenol

Dalen Tasg Asesu

Tasg SWP 3 – Asesu gwybodaeth

Amser disgwyl	2 awr
Cyfarwyddiadau'r dasg	Rhaid i chi gwblhau prawf llyfr caeedig wedi'i gymryd o dan oruchwyliaeth

Cynllun cyn-asesu'r ymgeisydd			
Rwy'n ymwybodol o ofynion asesu, meini prawf a dyraniad amser			
Llofnod yr Ymgeisydd		Dyddiad	

Mae'r ymgeisydd wedi		Llwyddo
1	cwblhau'r llyfr gwaith	<input type="checkbox"/> 61-77 marc

Mae'r dasg wedi'i chyflawni'n llwyddiannus yn ôl y safonau a nodwyd			
Person	Printiwch yr enw	Llofnod	Dyddiad
Ymgeisydd			
Asesydd			
Sicrhau ansawdd mewnol (os yw'n ofynnol)			

Uned 102 Arferion Gweithio Diogel Sylfaenol

Tasg SWP 3 – Aseu gwybodaeth




Rhan
1

	Cwestiynau	Marciau
1	Nodwch ddau nod deddfwriaeth iechyd a diogelwch. 1. _____ _____ 2. _____ _____	2 farc
2	Nodwch ddau gyfrifoldeb sydd gan gyflogwyr o dan ddeddfwriaeth iechyd a diogelwch. 1. _____ _____ 2. _____ _____	2 farc
3	Nodwch dri chyfrifoldeb sydd gan gyflogeion o dan ddeddfwriaeth iechyd a diogelwch. 1. _____ _____ 2. _____ _____ 3. _____ _____	3 marc

4

Cyfatebwch yr arwyddion isod gyda'u hystyr drwy dynnu llinell o'r label i'r arwydd perthnasol.

4 marc

Arwydd	
	
	
	
	

Ystyr
Rhybudd
Wedi'i wahardd
Gwybodaeth
Gorfodol

5 Rhowch gylch o gwmpas y **chwe** blwch isod sy'n disgrifio sefyllfa beryglus bosibl yn y gwaith. 6 marc

Siarad â chwsmer Agor tyllau a ffosydd Gweithio ar gyfrifiadur

Mannau cyfyng Gwirio cyflenwad Arwynebau gwlyb

Gweithio ar uchder Gweithio uwchben Peryglon baglu

6 Nodwch **dair** ffordd o atal damweiniau rhag digwydd yn ystod gweithgareddau gwaith. 3 marc

1. _____

2. _____

3. _____

7 Rhowch gylch o amgylch y **tri** blwch isod sy'n nodi perygl i iechyd o asbestos. 3 marc

Asbestosis

Dermatitis

Diabetes

Clefyd y galon

Canser ysgyfaint

Mesothelioma

8 Nodwch **dair** sefyllfa lle mae asbestos i'w gael yn gyffredin yn y gweithle. 3 marc

1. _____

2. _____

3. _____

9 Nodwch **ddau brif** gam y **dylid** eu cymryd os gwelwch fod defnyddiau sy'n cynnwys asbestos yn y gweithle. 2 marc

1. _____

2. _____

10 Nodwch yr eitemau o Gyfarpar Amddiffyn Personol (PPE) sydd i'w gweld isod drwy ysgrifennu enw'r eitem yn y blwch nesaf ato.

8 marc

PPE	Math o berygl
Het galed	
Dillad gweledd uchel	
Amddiffyniad llygaid	
Menig	
Esgidiau diogelwch	
Amddiffyniad clyw	
Mwgwd llwch	

Uned 102 Arferion Gweithio Diogel Sylfaenol

Tasg SWP 3 – Asesu gwybodaeth

Rhan 2

12	Nodwch y weithdrefn ar gyfer trafod eitemau trwm a swmpus â llaw.	3 marc
	1. _____	
	2. _____	
	3. _____	
13	Nodwch dri cham y dylid eu cymryd ar unwaith os oes tân yn cael ei ddarganfod.	3 marc
	1. _____	
	2. _____	
	3. _____	
14	Nodwch ddau ofyniad ar gyfer cymorth cyntaf yn y gweithle.	2 farc
	1. _____	
	2. _____	
15	Mae cydweithiwr yn cael archoll ar ei fys. Nodwch ddau gam y dylid eu cymryd i ddelio ag e. _	2 farc
	1. _____	
	2. _____	
16	Nodwch y camau y dylid eu cymryd os yw rhywun yn cael llosg bach ar ei fys.	1 marc

17	Pan fydd damwain yn digwydd nodwch y ddau brif gam y mae'n rhaid eu cymryd	2 marciau
	1. _____	
	2. _____	

18 Rhestrwch **dair** sefyllfa lle gall fod yn angenrheidiol gweithio ar uchder. 3 marc

1. _____

2. _____

3. _____

19 Nodwch yr eitemau o gyfarpar mynediad a ddangosir isod drwy ysgrifennu enw'r eitem yn y blwch nesaf ato. 3 marc



20 Rhestrwch **dair** eitem i'w cynnwys mewn gwiriadau diogelwch ar lwyfannau gwaith esgynnol symudol. 3 marc

1. _____

2. _____

3. _____

21 Nodwch y **tair** elfen y mae'n rhaid eu bod yn bresennol er mwyn i dân ddigwydd. 3 marc

1. _____

2. _____

3. _____

22 Cyfatebwch categori o dân a'r math o danwydd trwy dynnu llinell rhyngddyn nhw.

4 marc

Categori
A
B
C
CH

Tanwydd
Metelau
Nwyon
Solidau
Hylif

23 Nodwch **dri** cham y gellir eu cymryd i atal tanau rhag digwydd.

3 marciau

1. _____
2. _____
3. _____

24 Nodwch **ddau** beth y dylid meddwl amdanynt cyn delio â thân.

2 farc

1. _____
2. _____

Ymgais	Dyddiad a llythrennau blaen yr asesydd	Sgôr (allan o 77)
1		
2		

Uned 103 Mesurau Amgylcheddol a Chynaliadwyedd mewn Anheddau domestig

Dalen Tasg Asesu

Tasg ES 1 – Asesu gwybodaeth

Amser disgwyliedig	45 munud
Cyfarwyddiadau'r dasg	Rhaid i chi gwblhau prawf llyfr caeedig wedi'i gymryd o dan oruchwyliaeth

Cynllun cyn-asesu'r ymgeisydd			
Rwy'n ymwybodol o ofnion asesu, meini prawf a dyraniad amser			
Llofnod yr Ymgeisydd		Dyddiad	

MP	Mae'r ymgeisydd wedi	Llwyddo
1	cwblhau'r llyfr gwaith	<input type="checkbox"/> 26-33 marc

Mae'r dasg wedi'i chyflawni'n llwyddiannus yn ôl y safonau a nodwyd			
Person	Printiwch yr enw	Llofnod	Dyddiad
Ymgeisydd			
Asesydd			
Sicrhau ansawdd mewnol (os yw'n ofynnol)			

Uned 103 Mesurau Amgylcheddol a Chynaliadwyedd mewn Anheddau domestig

Tasg ES 1 – Aseu gwybodaeth rhan 1

Rhif	Cwestiynau	Marciau
1	Nodwch ddau reswm pam mae hi'n bwysig arbed dŵr a thrydan mewn anheddau domestig. 1. _____ _____ 2. _____ _____	2 farc
2	Rhestrwch dri dull o arbed dŵr. 1. _____ _____ 2. _____ _____ 3. _____ _____	3 marc
3	Rhestrwch dri dull o arbed trydan. 1. _____ _____ 2. _____ _____ 3. _____ _____	3 marc

4

Nodwch a yw pob llun yn dangos cyfleuster carbon uchel, carbon isel neu ddi-garbon.

3 marc



Hydrodrydan

a) _____



Gorsaf Pŵer Tân Glo

b) _____



Solar Thermol

c) _____

5 Nodwch bwysigrwydd lleihau allyriadau carbon o anheddau domestig. 1 marc

6 Bydd gosod ffenestri dwbl llawn i annedd ddomestig yn lleihau'r allyriadau carbon. Rhestrwch **ddau** ddull arall o leihau allyriadau carbon. 2 farc

1. _____

2. _____

7 Mae pypmïau gwres yn gweithio ar yr egwyddor bod gwres yn cael ei ddarparu (Rhowch gylch o gwmpas un ateb). 1 marc

- a) gan yr haul
- b) gan bren
- c) gan y ddaear neu aer
- ch) o'r gwynt neu donnau.

8 Pa un o'r canlynol sy'n darparu gwres o belenni coed? (Rhowch gylch o gwmpas ateb). 1 marc

- a) Biomas
- b) Ffynhonnell aer.
- c) Ffotofoltaig solar.
- ch) Ffynhonnell daear

9 Nodwch enw **dau** sefydliad sy'n rhoi cyngor ac arweiniad ar warchod ynni a thechnegau cadwraeth. 2 marciau

1. _____

2. _____

Uned 103 Mesurau Amgylcheddol a Chynaliadwyedd mewn Anheddau domestig

Tasg ES 1 – Aseu gwybodaeth

Rhan 2

10	<p>Pa un o'r canlynol sy'n arfer gwaith da a fyddai'n arbed ynni ac yn diogelu'r amgylchedd? (Rhowch gylch o gwmpas un ateb).</p> <p>a) Lleihau costau cludiant. b) Prynu deunyddiau o'r wlad rataf. c) Cludo deunyddiau yn yr awyr. ch) Defnyddio defnyddiau ysgafnach.</p>	1 marc
11	<p>Pa un o'r canlynol sy'n dangos arbed ynni? (Rhowch gylch o gwmpas un ateb).</p> <p>a) Cyrchu defnyddiau'n lleol a defnyddio ffynonellau adnewyddadwy. b) Defnyddio ffynonellau adnewyddadwy a deunyddiau ysgafnach. c) Adeiladu gorsafoedd pŵer nwy a lleihau costau defnyddiau. ch) Cludo defnyddiau ar y ffordd a lleihau costau cludo.</p>	1 marc
12	<p>Nodwch a yw'r datganiad canlynol yn wir neu'n anwir.</p> <p>“Mae torri a gosod rhediadau prif beipiau a chebl yn gywir yn ffordd dda o leihau gwastraff defnyddiau.”</p> <p>_____</p>	1 marc
13	<p>Nodwch ddau ddull o leihau gwastraff defnyddiau.</p> <p>1. _____</p> <p>2. _____</p>	2 marciau
14	<p>Nodwch beth sy'n ofynnol yn gyfreithiol fel bod cwmni'n gallu cludo gwastraff.</p> <p>_____</p>	1 marc
15	<p>Mae prif beipiau metel galfanedig a phlwm yn fetelau y gellir euhailgylchu. Rhestrwch dair enghraifft arall o fetel y gellir ei ailgylchu.</p> <p>1. _____</p> <p>2. _____</p> <p>3. _____</p>	3 marc

16. Nodwch **un** darn o ddeddfwriaeth ar waredu gwastraff.

1 marc

17 Nodwch a yw pob o'r mathau canlynol o wastraff yn beryglus, heb berygl neu'n anadweithiol.

4 marc



a) Toddyddion: _____



b) Teils: _____



c) Cyfarpar trydanol: _____



ch) Glud seiliedig ar ddŵr: _____

18 Nodwch y rheoliad sy'n cynnwys gwaredu moduron, tiwbiau fflworoleuol a byrddau cylched printiedig.

1 marc

Ymgais	Dyddiad a llythrennau blaen yr asesydd	Sgôr (allan o 33)
1		
2		

Uned 104 Paratoi Safle ar gyfer Gweithio yn y Diwydiant Adeiladu

Dalen Tasg Aseu

Tasg SP 3 – Aseu gwybodaeth

Amser disgwylidig	45 munud
Cyfarwyddiadau'r dasg	Rhaid i chi gwblhau prawf llyfr caeedig wedi'i gymryd o dan oruchwyliaeth

Cynllun cyn-aseu'r ymgeisydd			
Rwy'n ymwybodol o ofynion aseu, meini prawf a dyraniad amser			
Llofnod yr Ymgeisydd		Dyddiad	

Mae'r ymgeisydd wedi		Llwyddo
1	cwblhau'r llyfr gwaith	<input type="checkbox"/> 23-29 marc

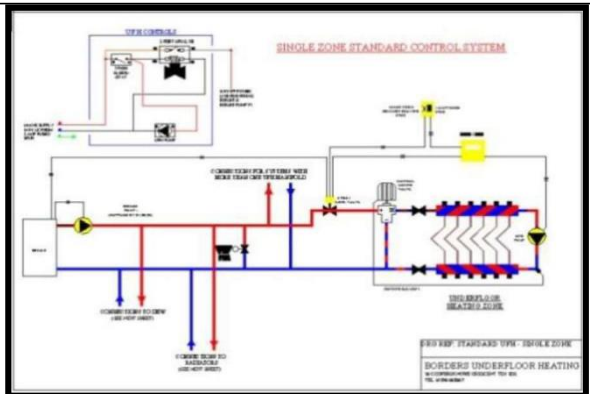
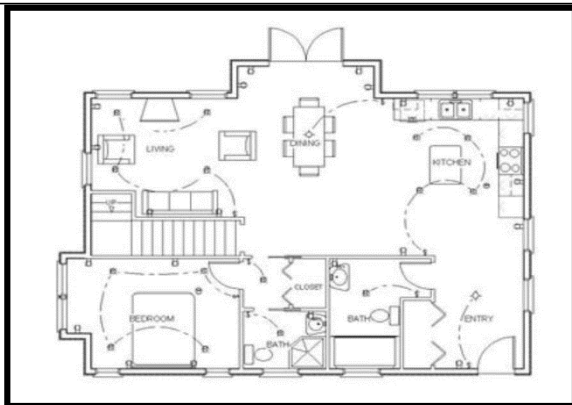
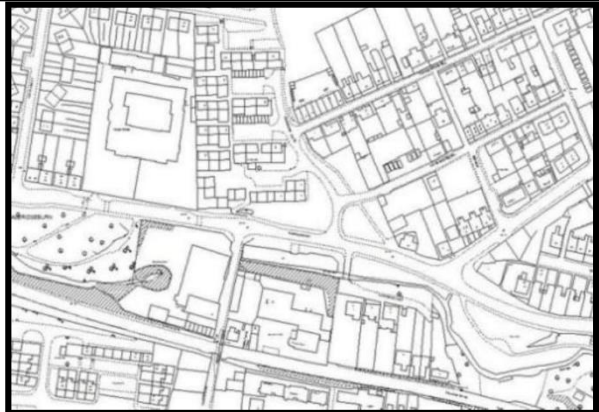
Mae'r dasg wedi'i chyflawni'n llwyddiannus yn ôl y safonau a nodwyd			
Person	Printiwch yr enw	Llofnod	Dyddiad
Ymgeisydd			
Aseydd			
Sicrhau ansawdd mewnol (os yw'n ofynnol)			

Uned 104 Paratoi Safle ar gyfer Gweithio yn y Diwydiant Adeiladu

Tasg SP 3 – Asesu gwybodaeth

1 Enwch a nodwch bwrpas pob un o'r ffynonellau gwybodaeth canlynol . 5 marc

Task Name	Duration	Start	Finish
Blowin ABC isolation	1 day	Tue 29/03	Wed 29/03
Drywall nailing inspection	1 hr	Thu 30/03	Thu 30/03
Order finish package	2 hrs	Thu 30/03	Thu 30/03
Tape and texture drywall	5 days	Thu 30/03	Thu 7/04/03
Deliver finish package	2 hrs	Thu 30/03	Thu 7/04/03
Finish carpentry	2.5 days	Fri 7/04/03	Wed 12/04/03
Painting	5 days	Wed 12/04/03	Mon 20/04/03
Phase 4 Closer Finish	20 days	Tue 18/04/03	Tue 22/04/03
Install linoleum	1 day	Tue 18/04/03	Wed 19/04/03
Roofing	3 days	Wed 19/04/03	Mon 25/04/03
Masonry	5 days	Wed 19/04/03	Wed 26/04/03
Siding/Stucco	4 days	Wed 19/04/03	Tue 26/04/03
Concrete prep/final grade	1 day	Tue 26/04/03	Wed 27/04/03
Soft & base	2 days	Tue 26/04/03	Thu 28/04/03
Four driveway and walk	2 days	Wed 27/04/03	Fri 29/04/03
Foundation parging	1 day	Fri 29/04/03	Mon 7/05/03
Exterior painting	1 day	Mon 7/05/03	Tue 12/05/03
Landscaping	5 days	Tue 12/05/03	Tue 20/05/03
Phase 5 Interior Finish	10.50 days	Mon 20/04/03	Tue 07/05/03
Order appliances	2 hrs	Mon 20/04/03	Mon 20/04/03
Tab & shower wall/floor	3 days	Mon 20/04/03	Thu 23/04/03
Install resilient hard floor	3 days	Thu 23/04/03	Tue 29/04/03
Install cabinets & sinks	1 day	Tue 29/04/03	Wed 05/05/03
Deliver appliances	2 hrs	Tue 29/04/03	Tue 29/04/03
Carpentry pack-up	1 day	Wed 05/05/03	Thu 06/05/03
Install appliances	1 day	Wed 05/05/03	Thu 06/05/03
Finish electrical	1 day	Wed 05/05/03	Thu 06/05/03



BRK ELECTRONICS

BRK time clocks have a grey enclosure with a black-faced clock inside. They also use a 9-Volt battery for backup power.

MODEL T8210T8212M70210R

24-HOUR ELECTRONIC TIME SWITCH

USER'S MANUAL

Features: Prewired, All Rights Reserved, ©1992 BRK Electronics, Inc. LISTED

SETTING THE CLOCK

The BRK time clock is preset to 12:00. To set the time, press the "SET" button. The display will show "0:00". Press the "HOUR" button to set the hour. Press the "MIN" button to set the minutes. Press the "ON/OFF" button to set the mode. Press the "TEST" button to test the clock.

SETTING THE EVENT SCHEDULE

The BRK time clock allows you to set up to 16 events. Each event consists of a start time, a stop time, and a mode (ON/OFF). To set an event, press the "EVENT" button. The display will show "0:00". Press the "HOUR" button to set the start time. Press the "MIN" button to set the minutes. Press the "ON/OFF" button to set the mode. Press the "TEST" button to test the event.

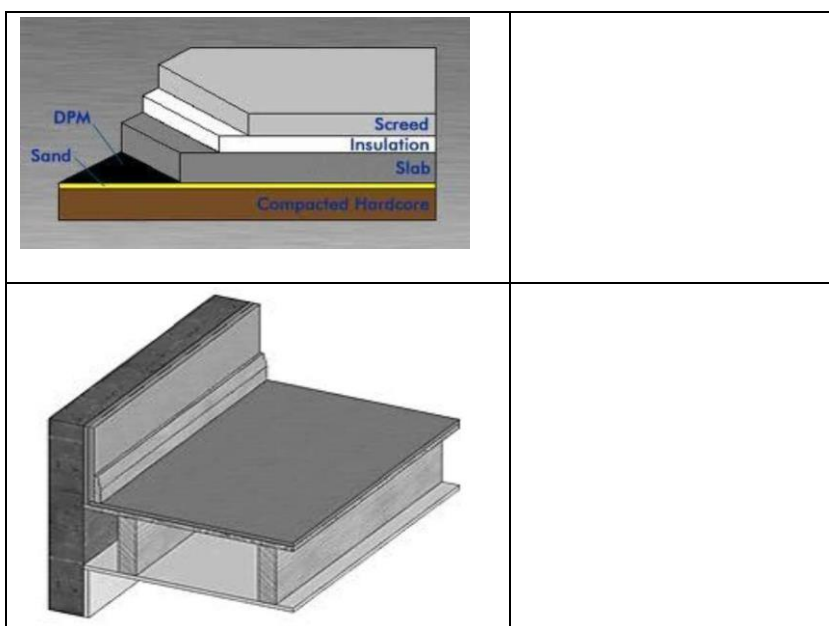
- 2 Mae'r tabl isod yn rhestru'r camau ar gyfer adeiladu adeilad.
Rhowch nhw yn y drefn gywir drwy eu rhifo o 1 i 8.
(Dechreuwch gydag 1).

8 marc

Profi a chomisiynu systemau	
Gosodiad 1af peipiau a cheblau	
Gosod strwythur to	
Bricio waliau i linell y to	
Leinin sych / plastro waliau mewnol	
Gosod unedau gegin	
Gosod allan safle'r strwythur	
Gosod seiliau adeilad	

- 3 Nodwch **ddau** fath o arwyneb sydd i'w gweld isod sydd i'w cael mewn eiddo domestig.

2 farc



4 Mae'r tabl isod yn dangos camau codi estyll llawr pren. Rhowch nhw yn y drefn gywir drwy eu rhifo 1 i 7. (Dechreuwch gydag 1).

7 marc

Codi'r astell i ddangos y trawstiau	
Torri uniad tafod ac uniad rhigol	
Rhwystro'r ardal sy'n agored i warchod y cwsmer	
Croes-dorri'r astell	
Dad-hoelio'r estyll a'r trawstiau	
Chwilio am beipiau a cheblau	
Rholio carpedi yn ôl	

5 Nodwch **ddau** berygl sy'n cael eu hwynebu wrth godi llawr mewn tŷ wedi'i feddiannu. 2 farc



1. _____

2. _____

6 Nodwch ba reoliad sy'n cwmpasu rhicio a drilio trawstiau.

1 marc

7 Nodwch **ddau** gam y dylid eu cymryd i warchod eiddo'r cwsmer cyn dechrau'r gwaith mewn annedd wedi'i meddiannu. 2 farc

1. _____
2. _____

8 Nodwch **ddwy** ffordd o gynnal perthynas weithio dda gyda masnachau eraill. 2 farc

1. _____
2. _____

Ymgais	Dyddiad a llythrennau blaen yr asesydd	Sgôr (allan o 29)
1		
2		

Uned 105 Terfyniadau a Gwifro Gosodiadau Trydan

Dalen Tasg Aseu

Tasg El 3 – Aseu gwybodaeth

Amser disgwyliedig	90 munud
Cyfarwyddiadau'r dasg	Rhaid i chi gwblhau prawf llyfr agored wedi'i gymryd o dan oruchwyliaeth

Cynllun cyn-aseu'r ymgeisydd			
Rwy'n ymwybodol o ofynion aseu, meini prawf a dyraniad amser			
Llofnod yr Ymgeisydd		Dyddiad	

Mae'r ymgeisydd wedi		Llwyddo
1	cwblhau'r llyfr gwaith	<input type="checkbox"/> 21-26 marc

Mae'r dasg wedi'i chyflawni'n llwyddiannus yn ôl y safonau a nodwyd			
Person	Printiwch yr enw	Llofnod	Dyddiad
Ymgeisydd			
Aseydd			
Sicrhau ansawdd mewnol (os yw'n ofynnol)			

Uned 105 Terfyniadau a Gwifro Gosodiadau Trydan

Tasg El 3 – Aseu gwybodaeth

	Cwestiynau	Marciau
1	<p>Rhowch gylch o amgylch dau ddatganiad isod sy'n gywir.</p> <p>a) Caiff ffiws ei ddinistrio wrth warchod cylched rhag gorgerrynt.</p> <p>b) Mae modd ailosod ffiws ar ôl gwarchod cylched rhag gorgerrynt.</p> <p>c) Caiff torrwr cylched ei ddinistrio wrth warchod cylched rhag gorgerrynt.</p> <p>ch) Mae modd ailasod torrwr cylched ar ôl gwarchod cylched rhag gorgerrynt.</p>	2 farc
2	<p>Nodwch sut mae modd cynnal yn ddiogel offer a chyfarpar sy'n cael eu defnyddio ar gyfer gosodiad trydanol.</p> <hr/> <hr/> <hr/>	2 farc


a) 		ch) 	
b) 		d) 	
c) 		dd) 	
		e) 	

4

Enwch yr allfeydd soced yn y lluniau isod.

4 marc

a)



b)



5

Enwch y swits yn y darlun isod.

2 farc



6

Enwch y blychau yn y lluniau isod.

4 marc

a) 	
b) 	

7

Rhestrwch **bum** math gwahanol o derfyniadau trydanol.

5 marc

- 1 _____
2. _____
3. _____
4. _____
- 5 _____

Ymgais	Dyddiad a llythrennau blaen yr asesydd	Sgôr (allan o 26)
1		
2		

Uned 105 Terfyniadau a Gwifro Gosodiadau Trydan

Dalen Tasg Aseu

TASG EI 4 – Diagramau cylched a gwifro

Amser disgwylidig	40 munud
Cyfarwyddiadau'r dasg	<p>I gwblhau'r dasg hon, rhaid i chi gynhyrchu tri diagram cylched a gwifrau fel y nodir ar y lluniadau a ddarperir.</p> <p>Dylech chi ddefnyddio pren mesur a phennau neu bensiliau lliw i adnabod y dargludyddion.</p> <p>Rhaid i gydrannau gael eu labelu'n llawn.</p> <p>Caniateir deunyddiau cyfeirio yn ystod y dasg.</p>
Diagramau	Ffigurau 3, 4 a 5 Tudalennau 70, 71 a 72.

Cynllun cyn-aseu'r ymgeisydd			
Rwy'n ymwybodol o ofynion aseu, meini prawf a dyraniad amser			
Mae gennyf yr holl offer a chyfarpar i gyflawni'r dasg			
Llofnod yr Ymgeisydd		Dyddiad	

Mae'r ymgeisydd wedi		Llwyddo
1	Cwblhewch y tri diagram cylched a gwifro	<input type="checkbox"/> Lleiafswm o 4 marc am bob lluniad a chyfanswm o 21 marc

Mae'r dasg wedi'i chyflawni'n llwyddiannus yn ôl y safonau a nodwyd			
Person	Printiwch yr enw	Llofnod	Dyddiad
Ymgeisydd			
Asesydd			
Sicrhau ansawdd mewnol (os yw'n ofynnol)			

TASG EI 4 – Diagramau cylched a gwifro

1. Tynnwch ddiagram cylched o gylched goleuadau un-ffordd. Labelwch yr holl ddargludyddion ac ategolion gan ddefnyddio'r rhestr isod.

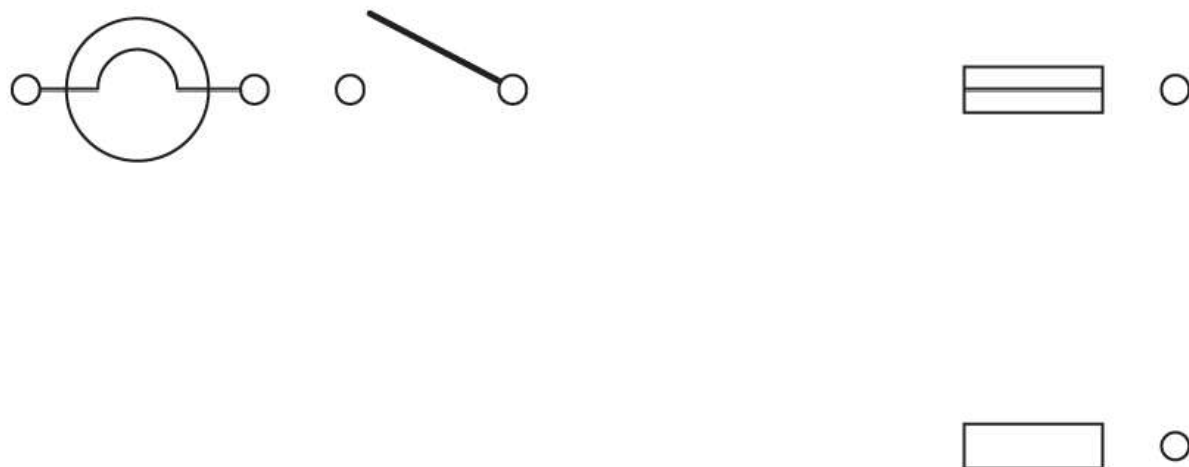
Ffiws

Cyswllt niwtral

Dargludydd Lein

Dargludydd niwtral

Ffigur 3



2. Lluniwch ddiagram gwifrau o gylched goleuadau un-ffordd, yn rheoli dau olau gan ddefnyddio system gwifrau tri phlât. Labelwch yr holl ddargludyddion ac ategolion gan ddefnyddio'r rhestr isod.

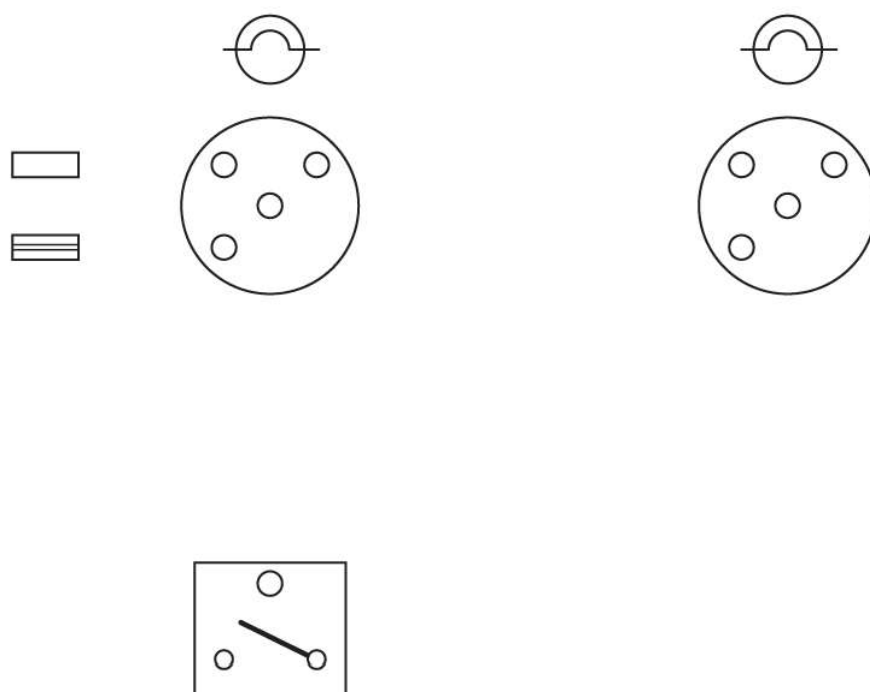
Gwifrau Swits

Dargludydd Lein

Dargludydd niwtral

Daliwr lamp tri phlât

Ffigur 4



3. Tynnwch ddiagram gwifrau o gylched soced rheiddiol 20A sy'n cyflenwi pedair allfa soced. Labelwch yr holl ddargludyddion ac ategolion gan ddefnyddio'r rhestr isod.

CCU

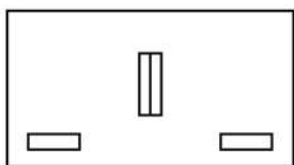
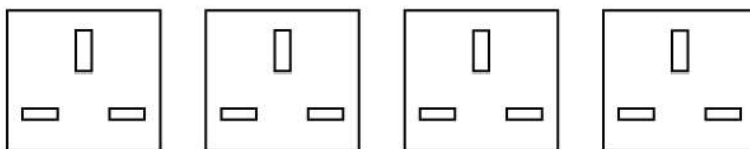
Ffiws

Niwtral

Lein

Allfeydd

Ffigur 5



Ymgais	Dyddiad a llythrennau blaen yr asesydd	Sgôr (allan o 26)
1		
2		

Uned 108 Draenio Uwch Daear Dalen Tasg Asesu

Tasg AGD 5 – Asesu gwybodaeth

Amser disgwylidig	45 munud
Cyfarwyddiadau'r dasg	Rhaid i chi gwblhau prawf llyfr caeedig wedi'i gymryd o dan oruchwyliaeth

Cynllun cyn-asesu'r ymgeisydd			
Rwy'n ymwybodol o ofynion asesu, meini prawf a dyraniad amser			
Llofnod yr Ymgeisydd		Dyddiad	

Mae'r ymgeisydd wedi		Llwyddo
1	cwblhau'r llyfr gwaith	<input type="checkbox"/> 18-22 marc

Mae'r dasg wedi'i chyflawni'n llwyddiannus yn ôl y safonau a nodwyd			
Person	Printiwch yr enw	Llofnod	Dyddiad
Ymgeisydd			
Asesydd			
Sicrhau ansawdd mewnol (os yw'n ofynnol)			

Uned 108 Draenio Uwch Daear

Tasg AGD 5 – Aseu gwybodaeth

Cwestiynau	Marciau	Marciau Asesydd
<p>1 Rhestrwch dri theclyn llaw cyffredin a'r defnydd ohonyn nhw ar gyfer gweithio gyda pheipen wastraff a chafnau dŵr glaw.</p> <p>1. _____</p> <p>_____</p> <p>2. _____</p> <p>_____</p> <p>3. _____</p> <p>_____</p>	6 marc	
<p>2 Nodwch ddau ofyniad diogelwch wrth ddefnyddio offer llaw wrth osod cafnau a pheipen wastraff.</p> <p>1. _____</p> <p>2. _____</p>	2 marciau	
<p>3 Nodwch dri gofyniad cynnal a chadw sylfaenol taclau llaw plymio cyffredin.</p> <p>1. _____</p> <p>2. _____</p> <p>3. _____</p>	3 marciau	
<p>4 Y bwlch mwyaf sy'n cael ei argymell ar gyfer astell dywydd yw pa un o'r canlynol? (rhowch gylch o gwmpas un ateb)</p> <p>a) 0.5m b) 0.75m c) 1.0m ch) 1.5m</p>	1 marc	
<p>5 Pan fydd dau ddarn o gafn wedi'u huno ynghyd caiff bwlch ei adael rhyngddydd nhw. Nodwch y rheswm am y bwlch yma.</p> <p>_____</p> <p>_____</p>	1 marc	

6 Beth ddylai cwmp y graddiant fod wrth osod cafnau dŵr glaw? 1 marc

7 Rhestrwch **dri** dull gwahanol o uno peipen wastraff blastig. 3 marc

1. _____

2. _____

3. _____

8 Nodwch faint y beipen wastraff sy'n cael ei defnyddio ar a) Bath. 2 marc

b) Basn ymolchi.

9 Caiff y clip isod ei ddefnyddio'n gyffredinol ar beipen wastraff o ba faint? (rhowch gylch o gwmpas ateb) 1 marc



- a) 40mm
- b) 110mm
- c) 28mm
- ch) 25mm

10

Caiff y clipiau isod eu defnyddio'n gyffredinol a ba faint o'r peipiau gwastraff canlynol? (rhowch gylch o gwmpas ateb)

1 marc



- a) 32mm
- b) 23mm
- c) 46mm
- ch) 119mm

11

Dylai fod gan beipen wastraff fertigol 44mm o ddiamedr bellter clipio o ba un o'r canlynol? (Rhowch gylch o gwmpas un ateb)

1 marc

- a) 1m
- b) 1.2m
- c) 1.5m
- ch) 1.8m

Ymgais	Dyddiad a llythrennau blaen yr asesydd	Sgôr (allan o 22)
1		
2		

Uned 109 Peipiau Copr Dalen Tasg Asesu

Tasg CP 5 – Asesu gwybodaeth

Amser disgwylidig	2 awr
Cyfarwyddiadau'r dasg	Rhaid i chi gwblhau prawf llyfr caeedig wedi'i gymryd o dan oruchwyliaeth

Cynllun cyn-asesu'r ymgeisydd			
Rwy'n ymwybodol o ofynion asesu, meini prawf a dyraniad amser			
Llofnod yr Ymgeisydd		Dyddiad	

Mae'r ymgeisydd wedi		Llwyddo
1	cwblhau'r llyfr gwaith	<input type="checkbox"/> 34-42 marc

Mae'r dasg wedi'i chyflawni'n llwyddiannus yn ôl y safonau a nodwyd			
Person	Printiwch yr enw	Llofnod	Dyddiad
Ymgeisydd			
Asesydd			
Sicrhau ansawdd mewnol (os yw'n ofynnol)			

Uned 109 Peipiau Copr

Tasg CP 5 – Asesu gwybodaeth

Cwestiynau	Marciau	Marciau Asesydd
1 Rhestrwch ddau nwy sy'n cael eu defnyddio gydag offer cynhyrchu gwres sy'n cael eu defnyddio yn y diwydiant plymio. 1. _____ 2. _____	(2 farc)	
2 Nodwch sut dylid cludo a storio nwyon sy'n cael eu defnyddio ar gyfer offer sy'n cynhyrchu gwres. _____ _____ _____ _____	(4 marc)	
3 Rhestrwch y gofynion ar gyfer archwilio offer cynhyrchu gwres yn weledol yn y gofod a ddarperir.	(3 marc)	

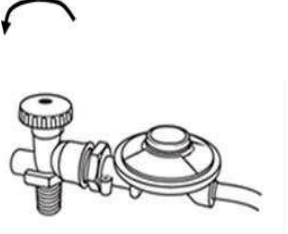
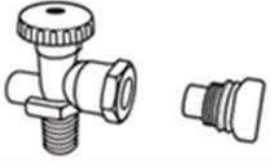
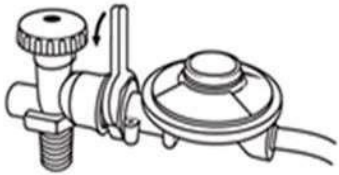



1. _____

2. _____

3. _____

- 4 Yn y tabl isod dangoswch y drefn y dylid cyflawni'r tasgau hyn (4 marc)
er mwyn cydosod yn ddiogel gyfarpar cynhyrchu gwres, trwy
ysgrifennu'r rhifau 1-4 yn y golofn gyntaf. (1 yw'r dasg gyntaf,
4 y dasg olaf).



Rhif	Darluniad	Disgrifiad	Marciau Asesydd
		Troï'r brif falf YMLAEN/I FFWRDD a phrofi am ollyngiad gan ddefnyddio hylif canfod gollyngiad ar bob cymal	
		Tynnu'r cap llwch a gwneud archwiliad gweledol o'r brif falf YMLAEN/I FFWRDD ar y silindr.	
		Tynhau'n dynn gyda sbaner yn wrth-glocwedd gan ei fod yn edefyn llaw chwith	
		Mewnosod rheoleidddydd i mewn i falf YMLAEN/I FFWRDD a thynhau â llaw	




5

Am bob un o'r offer sydd i'w gweld isod,

- Rhowch ei enw
- Nodwch ar gyfer beth mae'n cael ei ddefnyddio
- Nodwch unrhyw ofynion diogelwch a chynnal a chadw

Does dim angen profi eto unrhyw offer sydd wedi'u profi mewn aseiniad blaenorol.

Offeryn	Ymateb yr ymgeisydd	Marciau	Marciau Asesydd
 <p>Enw: _____</p> <p>Defnydd: _____</p>	<p>Gofynion cynnal a chadw a diogelwch:</p> <p>_____</p> <p>_____</p> <p>_____</p> <p>_____</p>	<p>(4 marc)</p>	
 <p>Enw: _____</p> <p>Defnydd: _____</p>	<p>Gofynion cynnal a chadw a diogelwch:</p> <p>_____</p> <p>_____</p> <p>_____</p> <p>_____</p>	<p>(4 marc)</p>	

Offeryn	Ymateb yr ymgeisydd	Marciau	Marciau Asesydd
 <p>Enw: _____</p> <p>Defnydd: _____</p>	<p>Gofynion cynnal a chadw a diogelwch:</p> <p>_____</p> <p>_____</p> <p>_____</p> <p>_____</p>	(4 marc)	
 <p>Enw: _____</p> <p>Defnydd: _____</p>	<p>Gofynion cynnal a chadw a diogelwch:</p> <p>_____</p> <p>_____</p> <p>_____</p> <p>_____</p>	(4 marc)	
 <p>Enw: _____</p> <p>Defnydd: _____</p>	<p>Gofynion cynnal a chadw a diogelwch:</p> <p>_____</p> <p>_____</p> <p>_____</p> <p>_____</p>	(4 marc)	

6

Cwblhewch y tabl isod i ddarparu meintiau'r **ddau brif** ddiamedr o beipiau i'w cael mewn tŷ a'r gofod clip fertigol a llorweddol uchaf sydd ar goll i'w ddefnyddio ar beipiau copr yn y diwydiant plymio domestig.

Maint peipen	Bwlch llorweddol (mm neu m)	Bwlch fertigol	Marciau	Marciau Asesydd
			3 marc	
			3 marc	

	Ymateb yr ymgeisydd	Marciau	Marciau Asesydd
7	Rhestrwch dri dull o uno peipiau copr. 1. _____ 2. _____ 3. _____	(3 marc)	

Ymgais	Dyddiad a llythrennau blaen yr asesydd	Sgôr (allan o 42)
1		
2		

Uned 110 Peipen Bwysedd Blastig Dalen

Tasg Aseu

Tasg P 3 – Aseu gwybodaeth

Amser disgwylidig	45 munud
Cyfarwyddiadau'r dasg	Rhaid i chi gwblhau prawf llyfr caeedig wedi'i gymryd o dan oruchwyliaeth

Cynllun cyn-aseu'r ymgeisydd			
Rwy'n ymwybodol o ofynion aseu, meini prawf a dyraniad amser			
Llofnod yr Ymgeisydd		Dyddiad	

Mae'r ymgeisydd wedi		Llwyddo
1	cwblhau'r llyfr gwaith	<input type="checkbox"/> 17-21 marc

Mae'r dasg wedi'i chyflawni'n llwyddiannus yn ôl y safonau a nodwyd			
Person	Printiwch yr enw	Llofnod	Dyddiad
Ymgeisydd			
Asesydd			
Sicrhau ansawdd mewnol (os yw'n ofynnol)			

Uned 110 Peipen Bwysedd Blastig

Tasg P 3 – Asesu gwybodaeth

Am bob un o'r offer sydd wedi'u darlunio isod, rhwch ei enw ar gyfer beth y mae'n cael ei ddefnyddio, gofynion diogelwch a gofynion cynnal a chadw yn y gofod a roddir.		Marciau	Marciau Asesydd
 <p>Enw Offeryn: Defnydd:</p>	<p>Gofynion cynnal a chadw a diogelwch:</p> <hr/> <hr/> <hr/> <hr/>	4 marc	
 <p>Enw Offeryn: Defnydd:</p>	<p>Gofynion cynnal a chadw a diogelwch:</p> <hr/> <hr/> <hr/> <hr/>	4 marc	
 <p>Enw Offeryn: Defnydd:</p>	<p>Gofynion cynnal a chadw a diogelwch:</p> <hr/> <hr/> <hr/> <hr/>	4 marc	

Rhestrwch **ddau** ddull gwahanol o uno peipiau pwysedd plastig sy'n cael eu defnyddio yn y diwydiant plymio domestig:

Marciau

**Marciau
Asesydd**

2

1. _____

2 farc

2. _____

3

Nodwch y **ddau** faint nodweddiadol o beipiau pwysedd blastig sy'n cael eu defnyddio yn y diwydiant plymio domestig **a'r** bwloch clipiau fertigol sy'n mynd gyda phob maint.

Maint peipen	Bwlch llorweddol	Bwlch fertigol	Marciau	Marciau Asesydd
	300mm (0.3m)		2 farc	
	500mm (0.5m)		2 farc	

4

Adnabyddwch y gwahanol glipliau sydd i'w gweld isod trwy dynnu llinell at yr ateb cywir

3 marc



Clip peipen colfachog

Clip hoelion

Clip snapio i mewn

Ymgais	Dyddiad a llythrennau blaen yr asesydd	Sgôr (allan o 21)
1		
2		

Uned 112 Gosod, Trwsio a Chynnal Systemau Plymio

Dalen Tasg Asesu

Tasg IRM 4 – Asesu gwybodaeth

Amser disgwylidig	90 munud
Cyfarwyddiadau'r dasg	Rhaid i chi gwblhau prawf llyfr caeedig wedi'i gymryd o dan oruchwyliaeth

Cynllun cyn-asesu'r ymgeisydd			
Rwy'n ymwybodol o ofynion asesu, meini prawf a dyraniad amser			
Llofnod yr Ymgeisydd		Dyddiad	

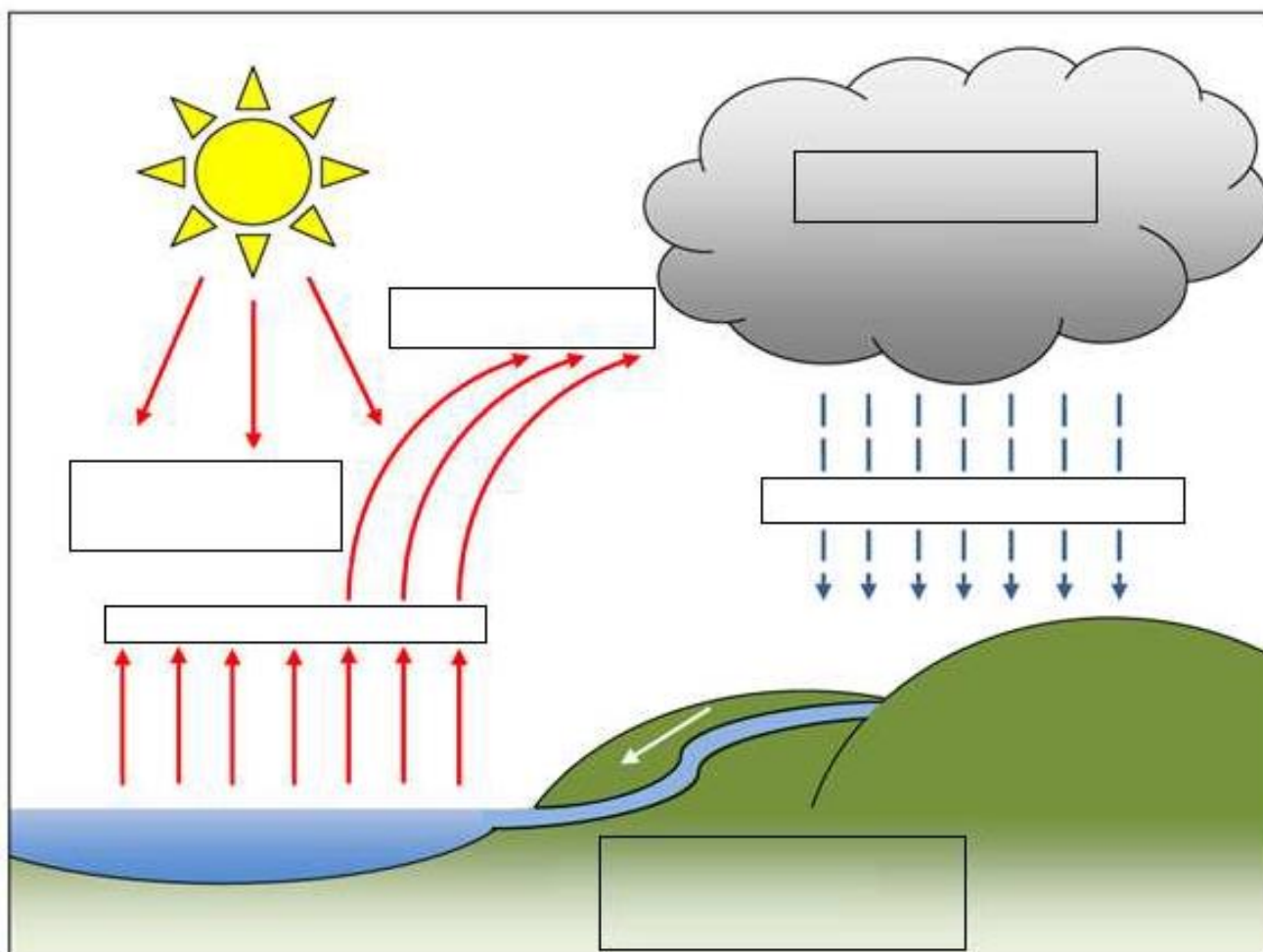
Mae'r ymgeisydd wedi		Llwyddo
1	cwblhau'r llyfr gwaith	<input type="checkbox"/> 34-42 marc

Mae'r dasg wedi'i chyflawni'n llwyddiannus yn ôl y safonau a nodwyd			
Person	Printiwch yr enw	Llofnod	Dyddiad
Ymgeisydd			
Asesydd			
Sicrhau ansawdd mewnol (os yw'n ofynnol)			

Uned 112 Gosod, Trwsio a Chynnal Systemau Plymio

Tasg IRM 4 – Aesu gwybodaeth

	Cwestiynau	Marciau	Marciau Asesydd
1	<p>Gan ddefnyddio'r penawdau isod, labelwch y diagram i nodi beth sy'n cael ei olygu gan darddiad dŵr?</p> <ul style="list-style-type: none">a) Afon yn rhedeg yn ôl i'r môr i ailgychwyn y brosesb) Glaw neu eirac) Anwedd dŵrch) Anweddiadd) Cymylau dirlawn o ddŵrdd) Gwres o'r haul	6 marc	



2 Enwch **ddwy** ffynhonnell o ddŵr.

2 farc

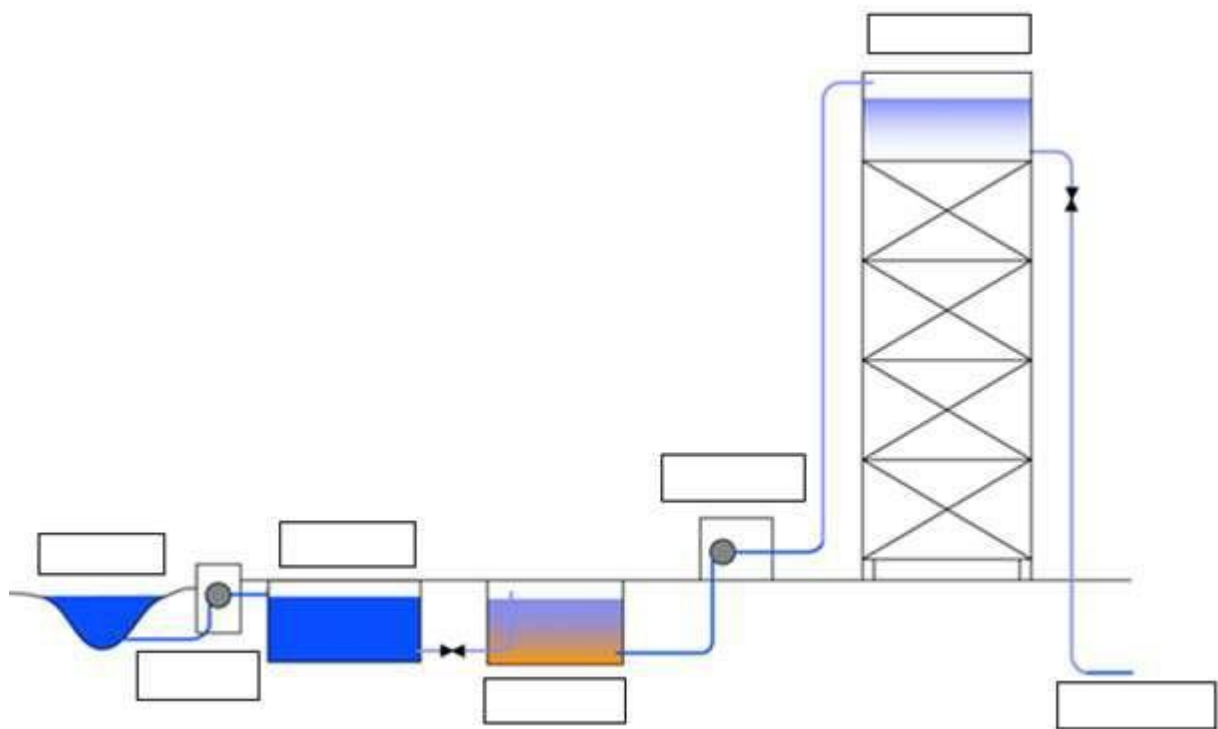
1. _____

2. _____

3 Gan ddefnyddio'r penawdau isod, labelwch y broses o gyflenwi dŵr i anheddau domestig.

7 marc

- a) Tŷ pwmpio a chlorineiddio
- b) Prif beipen dŵr
- c) Tŷ pwmp
- ch) Tanc setliad
- d) Afon
- dd) Cronfa ddŵr wasanaethu ar dŵr dŵr
- e) Hidlydd tywod araf



4 Cwblhewch y diagram peipiau drwy dynnu llinell sy'n cysylltu allfeydd, cydrannau a chyfarpar ar gyfer system dŵr oer dan bwysedd.

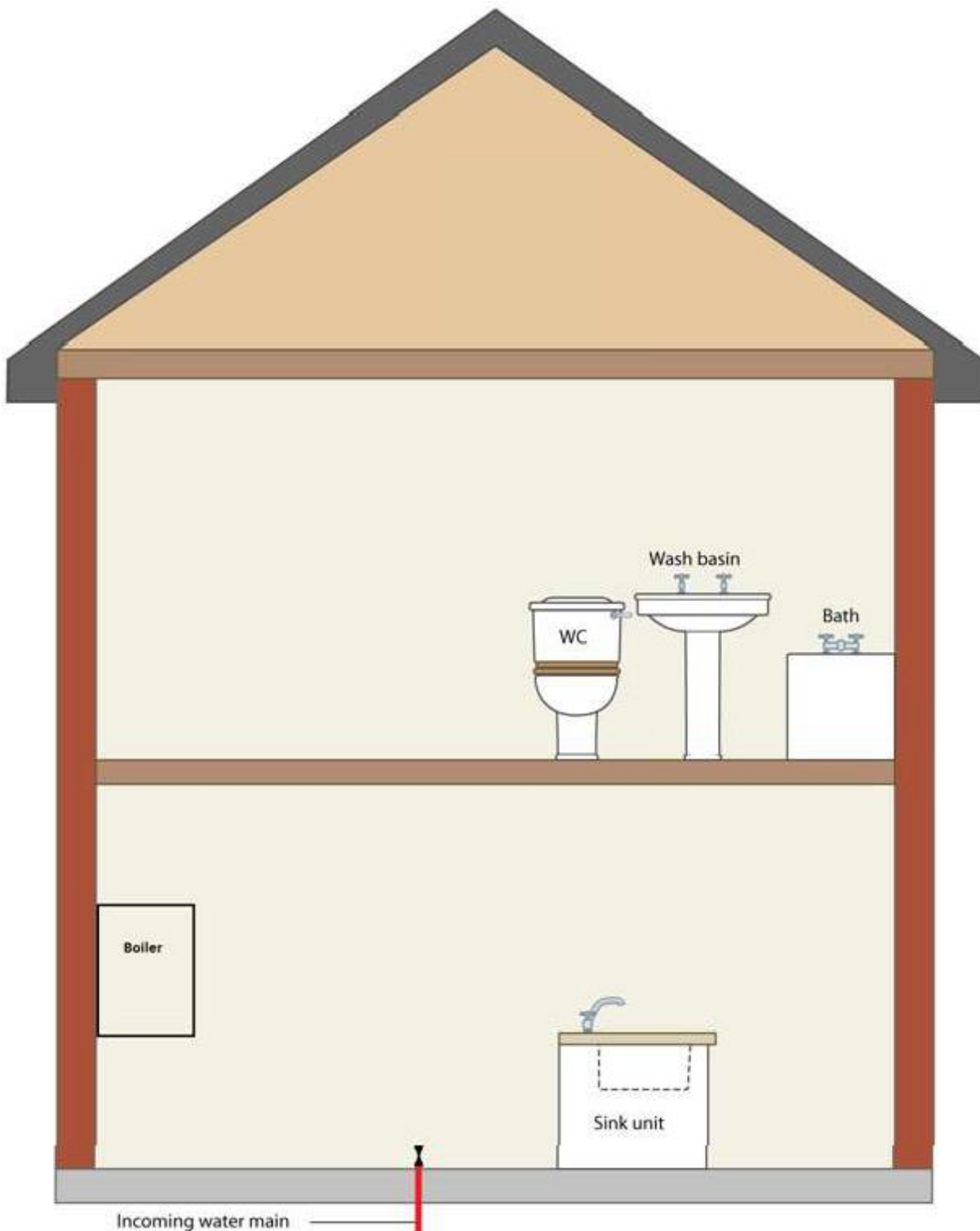
3 marc

WC Basn ymolchi Bath

Bwyler

Uned sinc

Prif gyflenwad dŵr i mewn

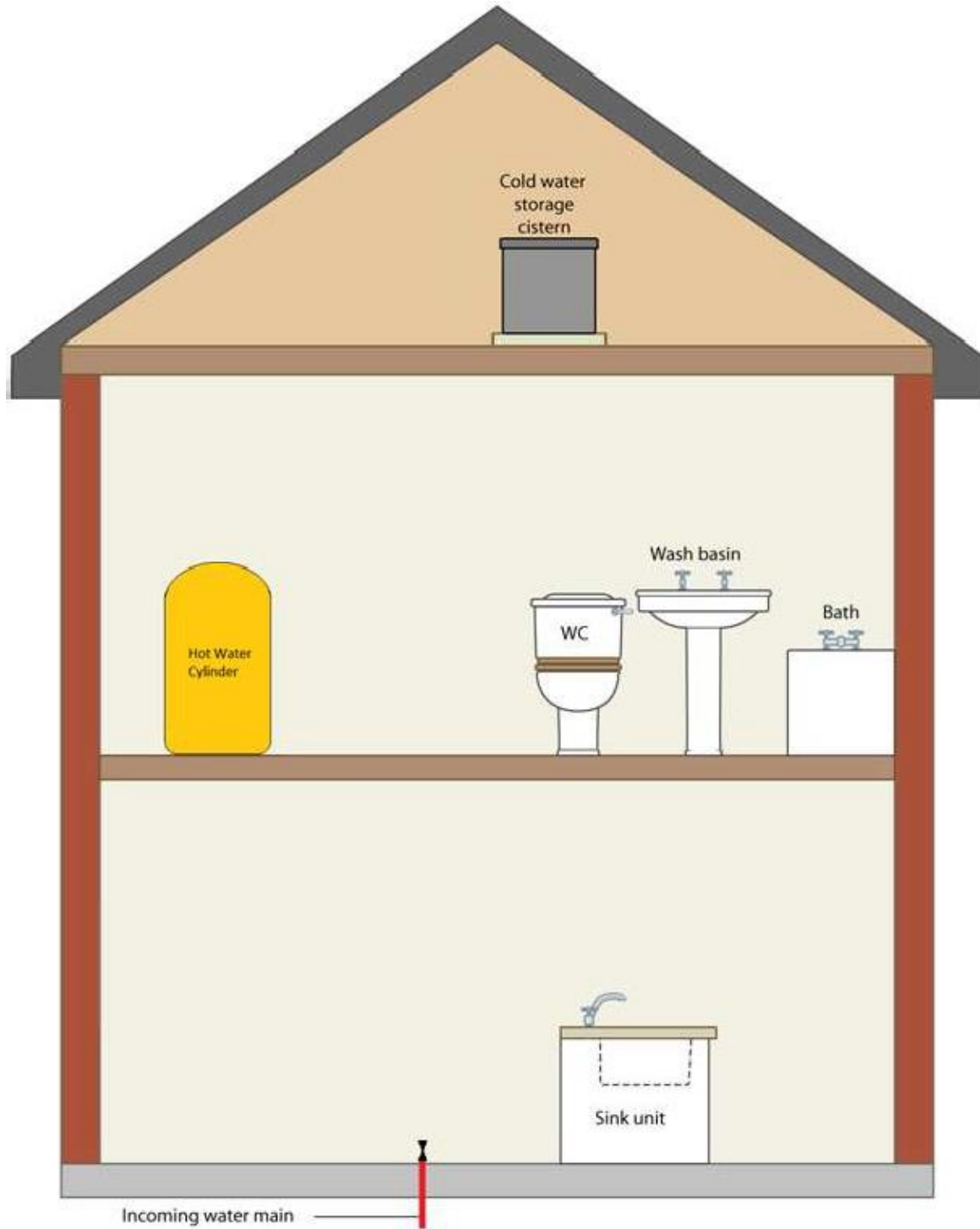


5

Cwblhewch y diagram peipiau drwy dynnu llinell sy'n cysylltu allfeydd, cydrannau a chyfarpar ar gyfer system dŵr **poeth** disgrychiant

3 marc

Seston storio dŵr oer
WC Basn Ymolchi Bath
Uned sinc
Silindr Dŵr Poeth
Prif gyflenwad dŵr i mewn



Marciau

**Marciau
Asesydd**

6

Tynnwch linell i gyfateb pob falf sydd i'w gweld isod â'r defnydd nodweddiadol cywir.

3 marc



Ynysu offeryn

www.cambridge-water.co.uk



Pwysedd uchel

www.pegleryorkshire.co.uk



Pwysedd isel

www.upperplumbers.co.uk

7

Tynnwch linell i gyfateb pob set o dapiau sydd i'w gweld isod â'r enw a'r lleoliad cywir.

3 marciau



Bib tapiau ar gyfer sinc glanhawyr neu sinc Belfast

www.sinks-taps.com



Bi – tap cymysgu llif ar gyfer sinc cegin.

www.qssupplies.co.uk



Tapiau piler ar gyfer basn

www.ashdownhomestore.co.uk

- 8 a) Tynnwch linell i gysylltu pob math o Falf a weithredir gan Fflôt (FOV) sydd i'w gweld isod â'r enw cywir.
- b) Nodwch a fyddai pob Falf a Weithredir gan Fflôt (FOV) i'w chael mewn Seston Tŷ Bach neu seston storio ar system.

6 marc



eesystems.co.uk

Falf fflôt diaffram rhan 2

I'w chael yn _____



www.upperplumbers.co.uk

Falf fflôt Portsmouth rhan 1

I'w chael yn _____



www.screwfix.com

Falf fflôt cydbwysedd rhan 4

I'w chael yn _____

9

Isod mae **tri** bai sŵn cyffredin, **tri** achos nodweddiadol a **thri** chywiriad posibl .

6 marc

Tynnwch linell i gysylltu pob bai sŵn â'r achos posibl cywir a cham cywiro.

Bai sŵn

Hymian / sŵn gwichian wrth agor y tap.

Bangio uchel / gwyllt o fewn y system.

Hymian uchel mewn peipiau.

Achos

Wedi'i achosi gan beipiau rhydd neu wedi'u cynnal / clipio'n anghywir.

Wedi'i achosi gan wasier hollt neu wedi'i dreulio mewn falf a weithredir gan fflôt.

Wedi'i achosi gan wasier tap hollt neu wedi'i dreulio.

Cam cywiro

Nodi peipiau rhydd a'u gosod yn eu lle.

Adnewyddu wasier tap.

Adnewyddu wasier mewn falf a weithredir gan fflôt.

Atebwch y **tri** chwestiwn amlddewis canlynol. (Rhowch gylch am un ateb ym mhob cwestiwn)

		Marciau	Marciau Asesydd
10	Beth yw cynnal a chadw ataliol sydd wedi'i gynllunio? a. Gweithio ar dorri i lawr ac argyfyngau. b. Gwirio tapiau, falfiau ac offer yn gyson. c. Gwasanaeth galw allan 24 awr. ch. Gosod gwasanaethau poeth ac oer.	1 marc	
11	Beth yw cynnal a chadw 'heb ei gynllunio'? a. Gweithio ar dorri i lawr ac argyfyngau. b. Gwirio tapiau, falfiau ac offer yn gyson. c. Gosod gwasanaethau poeth ac oer. ch. Gwasanaeth bwylwr nwy blyneddol.	1 marc	
12	Pam mae'n bwysig gwneud cynnal a chadw'n gyflym ac yn effeithlon? a. I sicrhau eich bod yn cael eich talu cyn gynted â phosibl. b. I gael y system i weithio cyn gynted â phosibl. c. I sicrhau bod y dasg yn costio llai i'r cwsmer. ch. I sicrhau eich bod yn gorffen gwaith yn brydlon.	1 marc	

Ymgais	Dyddiad a llythrennau blaen yr asesydd	Sgôr (allan o 42)
1		
2		

4 Atodiadau



Atodiad 1 Ffurflen adborth uned a blaengynllunio

Teitl yr uned		Enw'r ymgeisydd	
Cyfeirnod			
Tasg	Adborth uned		
Cyfeirnod			
Tasg	Blaengynllunio		

Adborth uned a blaengynllunio wedi'u trafod a'u cytuno			
Person	Printiwch yr enw	Llofnod	Dyddiad
Ymgeisydd			
Asesydd			
Sicrhau Ansawdd (os yw'n ofynnol)			

Cysylltiadau defnyddiol

Dysgwyr y DU

Gwybodaeth gyffredinol am gymwysterau

E-bost:
learnersupport@cityandguilds.com

Dysgwyr rhyngwladol

Gwybodaeth gyffredinol am gymwysterau

E-bost: intcg@cityandguilds.com

Canolfannau

Ceisiadau arholiadau, Tystysgrifau, Cofrestriadau/ymrestru, Anfonebau, Deunyddiau arholiad coll neu hwyr, Adroddiadau cofrestr enwol, Canlyniadau

E-bost:
centresupport@cityandguilds.com

Cymwysterau pwnc sengl

Cofnodion arholiadau, Canlyniadau, Ardystio, Deunyddiau arholiad coll neu hwyr, papurau arholiad anghywir, Cais am ffurflenni (BB, cofnodi canlyniadau), Newid dyddiad ac amser arholiad

E-bost:
singlesubjects@cityandguilds.com

Dyfarniadau rhyngwladol

Canlyniadau, Cofnodion, Cofrestriadau, Anfonebau, Defnyddiau arholiad coll neu hwyr coll neu hwyr defnyddiau, Adroddiadau cofrestr enwol

E-bost: intops@cityandguilds.com

Walled Garden

Ail-gyhoeddi cyfrinair neu enw defnyddiwr,

Problemau technegol, Ceisiadau, Canlyniadau, e-asesu, Llywio, Opsiwn Defnyddiwr/ dewislen, Problemau

E-bost: walledgarden@cityandguilds.com

Cyflogwyr

Atebion i gyflogwyr gan gynnwys Cydnabod Cyflogwyr: Cymeradwyo, Achredu a Marc Ansawdd, Ymgynghoriaeth, Mapio a Chyflwyno Hyfforddiant Arbenigol

E-bost: business@cityandguilds.com

Gwnaed pob ymdrech i sicrhau bod y wybodaeth yn y cyhoeddiad hwn yn wir ac yn ddilys ar adeg cyhoeddi. Fodd bynnag, mae cynhyrchion a gwasanaethau City & Guilds yn agored i'w datblygu a'u gwella'n barhaus, a chedwir yr hawl i newid cynhyrchion a gwasanaethau o bryd i'w gilydd. Ni all City & Guilds dderbyn atebolrwydd am golled neu ddifrod sy'n deillio o ddefnyddio gwybodaeth yn y cyhoeddiad hwn.

Os oes gennych gŵyn, neu awgrymiadau ar gyfer gwella am unrhyw un o'r gwasanaethau rydyn ni'n eu darparu, eostiwich: feedbackandcomplaints@cityandguilds.com

Ynglŷn â City & Guilds

Fel prif sefydliad addysg alwedigaethol y DU, mae City & Guilds yn arwain y chwyldro talent trwy ysbrydoli pobl i ddatgloi eu potensial a datblygu eu sgiliau. Rydym yn cynnig mwy na 500 o gymwysterau ar draws 28 o ddiwydiannau drwy 8500 o ganolfannau ledled y byd ac yn dyfarnu tua dwy filiwn o dystysgrifau bob blwyddyn. Mae City & Guilds yn cael ei gydnabod a'i barchu gan gyflogwyr ar draws y byd fel arwydd o ansawdd a hyfforddiant eithriadol.

Grŵp City & Guilds

Ein gweledigaeth yw byd lle mae gan bawb y sgiliau a'r cyfleoedd i lwyddo. Rydym yn cefnogi mwy na 4 miliwn o bobl bob blwyddyn i ddatblygu sgiliau sy'n eu helpu i gael swydd, i ddatblygu ar y swydd honno ac i baratoi am eu swydd nesaf. Fel elusen rydym yn ymfalchïo bod popeth a wnawn yn canolbwyntio ar gyflawni'r diben hwn. Boed trwy gyflwyno rhaglenni dysgu yn y gwaith sy'n adeiladu hyfedredd, darparu llwybrau hyblyg sy'n cefnogi cyflogadwyedd gydol oes neu trwy the City & Guilds Foundation sy'n cyllido mentrau sy'n helpu i symud rhwystrau i weithio a dysgu.

Hawlfraint

Mae cynnwys y ddogfen hon, oni nodir yn wahanol, yn hawlfraint © The City and Guilds of London Institute ac ni ellir ei chopïo, ei hatgynhyrchu na'i dosbarthu heb ganiatâd ysgrifenedig ymlaen llaw.

Fodd bynnag, gall canolfannau City & Guilds cymeradwy ac ymgeiswyr sy'n astudio ar gyfer cymwysterau City & Guilds lungopïo'r ddogfen hon yn rhad ac am ddim a/neu gynnwys fersiwn PDF ohoni ar fewnwyd y ganolfan ar yr amodau canlynol:

- dim ond at ddiben addysgu ymgeiswyr sy'n gweithio tuag at gymhwyster City & Guilds y gall staff y ganolfan gopïo'r deunydd, neu at ddibenion gweinyddu mewnol
- gall ymgeiswyr gopïo'r deunydd at eu defnydd eu hunain yn unig wrth weithio tuag at gymhwyster City & Guilds

Mae'r Amodau Copïo Safonol (gweler gwefan City & Guilds) hefyd mewn grym.

Noder: Nid yw'r Safonau Galwedigaethol Cenedlaethol yn hawlfraint © the City & Guilds of London Institute. Gwiriwch yr amodau ar gyfer eu copïo gyda'r Cyngor Sgiliau Sector perthnasol.

Cyhoeddwyd gan City & Guilds, elusen gofrestredig a sefydlwyd i hyrwyddo addysg a hyfforddiant

Giltspur House
5-6 Giltspur Street
London EC1A 9DE
www.cityandguilds.com